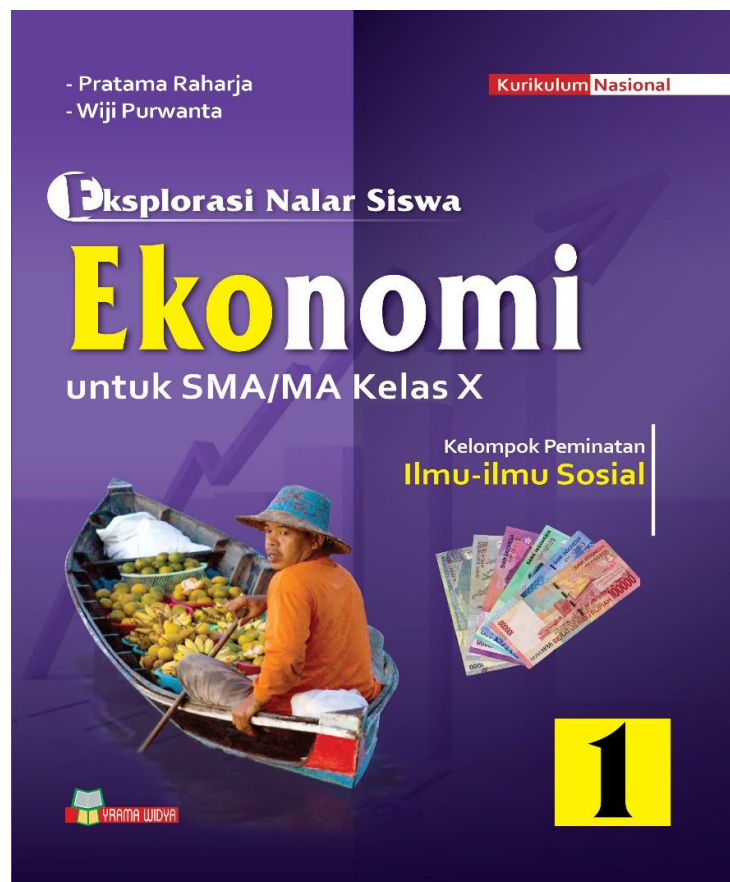




Mempersembahkan
Latihan Uji Kompetensi Guru Ekonomi Tahun 2015
Dan Buku Ekonomi sesuai Revisi Kurikulum 2013



Pilihlah salah satu jawaban yang anda anggap benar!

1. Seorang siswa sudah memiliki asuransi pendidikan, agar pada saatnya nanti dapat digunakan untuk melanjutkan kuliah ke perguruan tinggi. Asuransi pendidikan tersebut merupakan jenis kebutuhan
 - A. Sekarang
 - B. Masa depan
 - C. Tidak tentu waktunya
 - D. Sepanjang waktu
 - E. Segera dipenuhi

2. Pak Burhan menerima uang warisan Rp15.000.000,00. Agar uang yang diterimanya bermanfaat dan menghasilkan, dia akan membuka usaha. Oleh karena itu muncul beberapa pertanyaan sebagai berikut:
 - (1) Mengapa usaha tersebut dilakukan?
 - (2) Usaha apa yang akan dilakukan?
 - (3) Bagaimana cara mengelola usaha tersebut?
 - (4) Kapan usaha tersebut akan dilaksanakan?
 - (5) Dimana usaha tersebut akan dilaksanakan?
 - (6) Siapa yang menjadi sasaran konsumen dari usaha tersebut?

Berdasarkan pertanyaan di atas, masalah pokok ekonomi modern yang dihadapi Pak Baron adalah... .

- A. (1), (2), dan (3)
 - B. (1), (3), dan (6)
 - C. (2), (3), dan (6)
 - D. (3), (4), dan (5)
 - E. (3), (5), dan (6)
-
3. Pembangunan ekonomi memiliki tujuan untuk meningkatkan kesejahteraan masyarakat, bangsa, dan negara. Selain itu pembangunan ekonomi juga harus mampu menjawab persoalan-persoalan yang dihadapi bangsa dan negara, yaitu....
 - A. persoalan kemiskinan dan tenaga kerja.

- B. Sarana dan prasarana
 - C. Inflasi dan tekanan kurs valuta asing
 - D. Pertumbuhan dan pemerataan ekonomi
 - E. Distribusi dan konsumsi
4. Proses pemilihan segmen pasar dan saluran untuk menjual suatu produk dari perusahaan, merupakan salah satu kegiatan untuk memecahkan permasalahan pokok ekonomi modern, yaitu....
- A. untuk siapa barang diproduksi dan saluran distribusinya
 - B. berapa banyak barang yang akan diproduksi dan untuk siapa barang diproduksi
 - C. di mana barang akan diproduksi dan berapa banyak
 - D. bagaimana cara memproduksi dan berapa jumlah yang harus diproduksi
 - E. barang apa yang akan diproduksi dan siapa yang akan mengonsumsi
5. Beberapa kebaikan sistem ekonomi:
- (1) perbedaan antara masyarakat yang kaya dengan yang miskin sangat tipis
 - (2) adanya persaingan, mendorong kemajuan usaha
 - (3) pemerintah bertanggung jawab sepenuhnya terhadap perekonomian
 - (4) pengakuan hak milik mendorong seseorang untuk lebih giat bekerja
 - (5) mudah melaksanakan pengendalian
 - (6) produksi didasarkan pada permintaan pasar atau kebutuhan masyarakat, sehingga terdapat efektifitas dan efisiensi

Berdasarkan pernyataan di atas, yang termasuk dampak sistem ekonomi liberal adalah... .

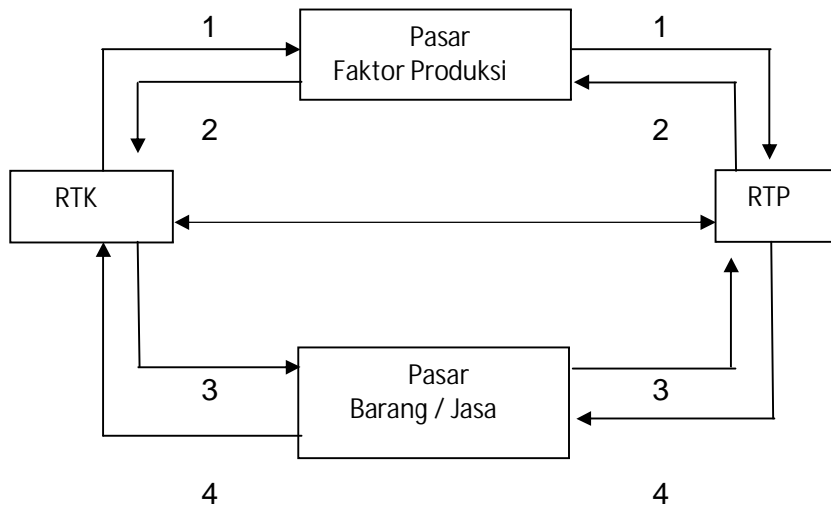
- A. (1), (2), dan (3)
 - B. (1), (3), dan (5)
 - C. (1), (4), dan (5)
 - D. (2), (3), dan (6)
 - E. (2), (4), dan (6)
6. Di bawah ini merupakan pola hidup
- (1) Bu Risma membeli kios di pasar untuk jualan kebutuhan sehari-hari.

- (2) Pak Agus Herry membeli motor merk dan keluaran terbaru hasil kreditan, motor yang lama tidak dipakai karena ketinggalan model
- (3) Setiap awal tahun ajaran baru para orang tua membeli perlengkapan sekolah anaknya masing-masing.
- (4) Ibu Tatik menyewa apartemen di Kelapa Gading untuk ditempati jika libur.
- (5) Para siswa SMA Model sangat senang makan di restoran Jepang, karena gengsinya meningkat.

Berdasarkan pola hidup di atas yang merupakan pola hidup konsumtif adalah

- A. (1), (2), dan (3)
- B. (1), (3), dan (5)
- C. (1), (4), dan (5)
- D. (2), (3), dan (6)
- E. (2), (4), dan (5)

7. Perhatikan diagram berikut !



Berdasarkan bagan diatas, angka 2 menunjukkan

- A. arus faktor produksi dari rumah tangga kepada produsen
- B. arus barang/jasa dari produsen kepada rumah tangga
- C. pengeluaran konsumen/pendapatan produsen
- D. balas jasa dari produsen kepada pemilik faktor produksi
- E. penerimaan produsen sebagai hasil penjualan barang/jasa

8. Perhatikan pernyataan-pernyataan berikut!

- 1) harga barang pengganti.
- 2) harga barang lain yang mempunyai hubungan erat b.
- 3) pendapatan produsen.
- 4) cita rasa/selera.
- 5) kualitas penduduk.
- 6) perkiraan tentang masa depan.
- 7) distribusi pengeluaran.
- 8) Perubahan harga suatu barang

Berdasarkan pernyataan-pernyataan di atas yang merupakan faktor-faktor yang memengaruhi permintaan suatu barang adalah...

- A. (1), (2), (3), dan (4)
- B. (1), (3), (4), dan (5)
- C. (1), (4), (5), dan (5)
- D. (2), (3), (5), dan (7)
- E. (2), (4), (6), dan (8)

9. Asumsi yang mengabaikan berbagai faktor yang diketahui dan yang tidak diketahui yang dapat memengaruhi hubungan antara sesuatu dan lainnya disebut....

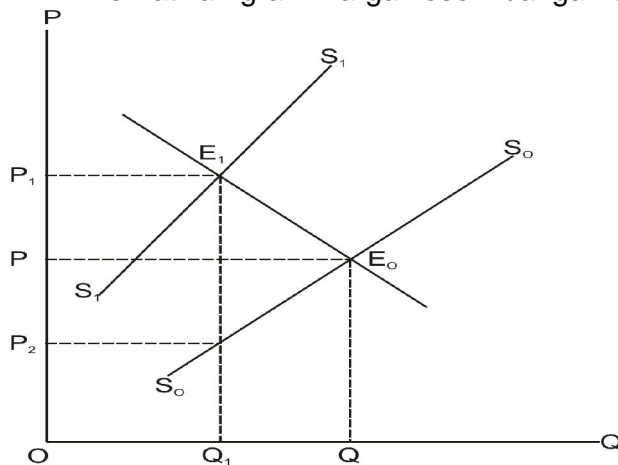
- A. Equalitas
- B. Persamaan
- C. Angapan
- D. Ceteris paribus
- E. balancing

10. Fungsi permintaan suatu barang ditunjukkan oleh persamaan $Q_d = 18 - P$, sedangkan fungsi penawaran $Q_s = 12 + 2P$. Syarat keseimbangan pasar adalah permintaan sama dengan penawaran, keseimbangan pasar terjadi pada....

- A. harga Rp2,00 (sebagai harga keseimbangan) dan kuantitas keseimbangan sebanyak 16 unit
- B. harga Rp9,00 (sebagai harga keseimbangan) dan kuantitas keseimbangan sebanyak 16 unit

- C. harga Rp2,00 (sebagai harga keseimbangan) dan kuantitas keseimbangan sebanyak 20 unit
- D. harga Rp9,00 (sebagai harga keseimbangan) dan kuantitas keseimbangan sebanyak 20 unit
- E. harga Rp2,00 (sebagai harga keseimbangan) dan kuantitas keseimbangan sebanyak 18 unit

11. Perhatikan grafik harga keseimbangan di bawah ini!



Titik keseimbangan sesudah pajak adalah :

- A. P
- B. P₁
- C. P₂
- D. E
- E. E₁

12. Ciri-ciri pasar persaingan sempurna dan pasar persaingan tidak sempurna:

I	II	III
1. Barang yang diperdagangkan bersifat homogen. 2. Dalam pasar tersebut hanya	1. Jumlah pembeli dan penjual sama-sama banyak. 2. Penjual sulit	1. Barang yang diperdagangkan bersifat heterogin atau homogen. 2. Pembeli

terdapat beberapa penjual.	memasuki pasar.	mengetahui keadaan pasar.
----------------------------	-----------------	---------------------------

Berdasarkan tabel di atas, yang merupakan ciri pasar oligopoli adalah... .

- A. I₁, II₁, III₁
- B. I₁, II₁, III₂
- C. I₁, II₂, III₁
- D. I₂, II₂, III₁
- E. I₂, II₂, III₂

13. Matriks pasar faktor produksi:

No.	A	B	C
1.	Memperjualbelikan atau menyewakan lahan beserta hasilnya.	Menerima balas jasa yang berupa upah.	Dibutuhkan sebagai pengelola dan pengguna faktor produksi lain.
2.	Sangat dipengaruhi pengetahuan dan keterampilan.	Dibutuhkan untuk tempat dan bahan baku usaha.	Sebagai tempat alternatif untuk melakukan investasi.
3.	Menerima balas jasa yang berupa bunga.	Penawaran berasal dari rumah tangga konsumen.	Menerima balas jasa berupa sewa.

Berdasarkan matriks di atas, yang berkaitan dengan pasar faktor produksi tenaga kerja adalah... .

- A. A1, B2, dan C3
- B. A2, B2, dan C2
- C. A2, B1, dan C1
- D. A2, B3, dan C1
- E. A3, B3, dan C2

14. Sejak keluar dari SMA, Banu tidak melanjutkan pendidikan karena tidak memiliki biaya. Untuk sementara, dia menganggur karena baru tiga bulan lagi di perusahaan tempat kenalan orang tuanya bekerja akan diadakan penerimaan pegawai baru. Banu tertarik untuk bekerja di perusahaan tersebut. Sementara orang tua Banu mengelola warung di samping rumahnya.

Upaya untuk mengatasi permasalahan di atas agar Banu diterima bekerja di perusahaan adalah... .

- A. Menunggu tiga bulan sambil mempersiapkan segala persyaratan administrasi
- B. Membantu orang tua menjaga warung sambil mempelajari kembali pelajaran sekolah
- C. Memanfaatkan waktu tiga bulan untuk sekedar santai dan bertemu teman-teman
- D. Menambah keterampilan dengan kursus sesuai persyaratan yang diminta perusahaan
- E. Mencari informasi bagaimana supaya diterima bekerja di perusahaan yang bersangkutan

15. Data pendapatan nasional Negara Pandawa:

- GDP	Rp950.000.000,00
- Produksi perusahaan asing	Rp75.000.000,00
- Produksi warga negara di luar negeri	Rp30.000.000,00
- Pajak langsung	Rp50.000.000,00
- Pajak tidak langsung	Rp100.000.000,00
- Pajak perseroan	Rp20.000.000,00
- Asuransi	Rp5.000.000,00
- Laba ditahan	Rp150.000.000,00
- Pembayaran transfer	Rp25.000.000,00
- Penyusutan	Rp30.000.000,00

Dari data tersebut di atas *Disposable Income* (DI) adalah....

- A. Rp575.000.000,00
- B. Rp625.000.000,00
- C. Rp775.000.000,00

D. Rp875.000.000,00

E. Rp905.000.000,00

16. Perhatikan tabel asumsi jumlah penduduk dan GNP beberapa negara di bawah ini!

Negara	Jumlah Penduduk (Juta Jiwa)	GNP (Juta US \$)
Kamboja	18	3.600
Vietnam	9	35.000
Myanmar	2,5	3.125
Brunei	1,5	11.250
Filipina	20	20.000

Berdasarkan tabel di atas, urutan negara berdasarkan pendapatan perkapita dari yang terkecil adalah... .

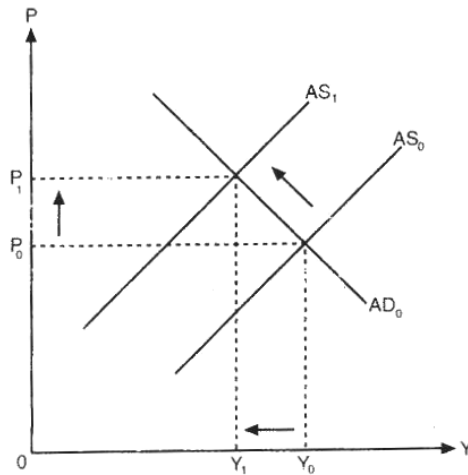
- A. Filipina, Myanmar, Kamboja, Vietnam, Brunei
 - B. Brunei, Vietnam, Myanmar, Filipina, Kamboja
 - C. Myanmar, Filipina, Kamboja, Vietnam, Brunei
 - D. Vietnam, Kamboja, Filipina, Myanmar, Brunei
 - E. Kamboja, Filipina, Myanmar, Vietnam, Brunei
17. Inflasi adalah suatu keadaan yang menunjukkan harga barang pada umumnya mengalami kenaikan secara terus menerus yang diakibatkan adanya ketidakseimbangan antara arus uang dengan arus barang. Oleh karena itu, inflasi harus segera diatasi.

Di bawah ini pernyataan yang paling tepat untuk mengatasi inflasi adalah... .

- A. Pada saat terjadi inflasi, jumlah uang yang beredar lebih sedikit dibandingkan dengan jumlah barang yang dibutuhkan, sehingga harga-harga mengalami kenaikan. Oleh karena itu, inflasi dapat diatasi dengan cara menaikkan suku bunga (kebijakan moneter) agar jumlah uang yang beredar berkurang, dan mengurangi jumlah barang yang dibutuhkan dengan cara meningkatkan jumlah produksi (kebijakan nonmoneter).

- B. Ketika terjadi inflasi, jumlah barang yang beredar lebih banyak dibandingkan dengan jumlah uang yang dibutuhkan, sehingga harga-harga mengalami kenaikan. Oleh karena itu, inflasi dapat diatasi dengan cara menurunkan suku bunga (kebijakan moneter) agar jumlah uang yang beredar bertambah, dan mengurangi jumlah barang yang dibutuhkan dengan cara mengurangi jumlah produksi (kebijakan nonmoneter).
- C. Pada saat terjadi inflasi, jumlah barang yang beredar lebih banyak dibandingkan dengan jumlah uang yang dibutuhkan, sehingga harga-harga mengalami kenaikan. Oleh karena itu, inflasi dapat diatasi dengan cara menaikkan suku bunga (kebijakan moneter) agar jumlah uang yang beredar bertambah, dan menambah jumlah barang yang dibutuhkan dengan cara meningkatkan jumlah produksi (kebijakan nonmoneter).
- D. Ketika terjadi inflasi, jumlah uang yang beredar lebih banyak dibandingkan dengan jumlah barang yang dibutuhkan, sehingga harga-harga mengalami kenaikan. Oleh karena itu, inflasi dapat diatasi dengan cara menaikkan suku bunga (kebijakan moneter) agar jumlah uang yang beredar berkurang, dan mengurangi jumlah barang yang dibutuhkan dengan cara menurunkan jumlah produksi (kebijakan nonmoneter).
- E. Pada saat terjadi inflasi, jumlah uang yang beredar lebih banyak dibandingkan dengan jumlah barang yang dibutuhkan, sehingga harga-harga mengalami kenaikan. Oleh karena itu, inflasi dapat diatasi dengan cara menaikkan suku bunga (kebijakan moneter) agar jumlah uang yang beredar berkurang, dan menambah jumlah barang yang dibutuhkan dengan cara meningkatkan jumlah produksi (kebijakan nonmoneter).

18. Perhatikan kurva berikut!



Kurva tersebut menggambarkan inflasi karena faktor

- A. Inflasi Tekanan Permintaan (*Demand-Pull Inflation*)
- B. Inflasi Dorongan Biaya (*Cost-Push Inflation*)
- C. Inflasi Campuran (*Mixed Inflation*)
- D. Inflasi dari Dalam Negeri (*Domestic Inflation*)
- E. Inflasi yang Berasal dari Luar Negeri (*Imported Inflation*)

19. Saham dan Obligasi memiliki ciri-ciri sebagai berikut:

- (1) bukti kepemilikan perusahaan
 - (2) Merupakan bukti pengakuan utang
 - (3) Jangka waktu tidak terbatas
 - (4) Jangka waktu terbatas, hari jatuh tempo ditentukan
 - (5) Pemegang saham memperoleh penghasilan disebut dividen dengan frekuensi tidak menentu
 - (6) Tingkat bunga dan periode pembayaran telah ditetapkan
 - (7) Dividen dibayar dari laba perusahaan, potensi laba perusahaan sulit ditaksir
- Berdasarkan pernyataan di atas yang merupakan ciri-ciri saham adalah

- A. (1), (2), (3), dan (5)
- B. (1), (3), (5), dan (7)
- C. (1), (4), (5), dan (6)

D. (2), (3), (5), dan (6)

E. (2), (4), (5), dan (7)

20. Investasi dipengaruhi oleh faktor-faktor sebagai berikut:

(1) Kurs valuta asing

(2) Pendapatan nasional per kapita untuk tingkat negara (nasional) dan PDRB per kapita untuk tingkat propinsi dan Kabupaten atau Kota

(3) Kondisi perekonomian negara lain

(4) Birokrasi perijinan

(5) Sumber daya alam

(6) Kualitas sumberdaya manusia

Faktor-faktor eksternal yang memengaruhi investasi adalah

A. (1), (2), dan (5)

B. (1), (3), dan (5)

C. (1), (4), dan (6)

D. (2), (3), dan (6)

E. (2), (4), dan (6)

21. Ibu Rina akan berlibur ke Malaysia selama satu minggu, oleh sebab itu Ibu Rina menukarkan uang Rp8.400.000,00 dengan ringgit. Pada hari itu kurs yang berlaku adalah kurs jual 1 ringgit = Rp2.500,00 kurs beli 1 ringgit = Rp2.300,00 dan kurs tengah 1 ringgit = Rp2.400,00. Berdasarkan harga kurs di atas maka jumlah ringgit yang akan diterima Ibu Rina adalah....

A. 3.574,47 ringgit

B. 3.500,00 ringgit

C. 3.428,57 ringgit

D. 3.360,00 ringgit

E. 3.300,00 ringgit

22. Perhatikan matrik berikut:

A	B	C
1. Menerima simpanan dari masyarakat	1. Menetapkan dan melaksanakan kebijakan moneter	1. Mencetak dan mengedarkan uang
2. Menjaga kestabilan nilai rupiah	2. Menerima simpanan dalam bentuk giro	2. Memberikan kredit kepada masyarakat
3. Memberikan kredit perusahaan	3. Melayani transfer devisa	3. Menaikan Cash Ratio

Berdasarkan matrik tersebut diatas yang merupakan fungsi bank sentral

- A. A1, B1, C1
- B. A1, A2, C1
- C. A2, B1, C1
- D. A2, B2, C2
- E. A3, B2, C3

23. Pemerintah menaikkan tingkat suku bunga bank umum untuk mengendalikan laju inflasi dengan harapan masyarakat akan cenderung menabung sehingga uang yang beredar dimasyarakat berkurang. Kebijakan yang diambil pemerintah untuk mengatasi masalah inflasi tersebut adalah

- A. Pasar terbuka
- B. Cash ratio
- C. Uang ketat
- D. Diskonto
- E. Uang longgar

24. Perhatikan pernyataan-pernyataan berikut ini!

- 1. Sumber Daya Finansial (SDF)
- 2. Sumber Daya Alam (SDA)
- 3. Iman dan ketaqwaan (IMTAQ)
- 4. Sosial budaya

5. Keadaan keamanan

6. Sistem Pemerintah

Berdasarkan pernyataan di atas yang merupakan faktor-faktor yang memengaruhi pembangunan ekonomi adalah

A. (1), (3), dan (5)

B. (1), (4), dan (6)

C. (2), (3), dan (6)

D. (2), (4), dan (6)

E. (3), (5), dan (6)

25. Dewasa ini kemajuan teknologi semakin canggih, bila kita tidak mengikuti perkembangan IPTEK maka kita menghadapi pengangguran teknologi. Untuk mengatasi pengangguran teknologi maka perlu adanya cara mengatasinya yaitu....

A. Mengusahakan industri padat karya

B. Mengurangi penggunaan teknologi

C. Mengikuti pelatihan IPTEK

D. Mengirim tenaga kerja ke luar negeri

E. Selektif memilih teknologi

26. Dalam bukunya yang berjudul "*The Stages of Economic Growth*", dikemukakan teori tentang tahap-tahap pertumbuhan ekonomi suatu negara, terdapat lima tahap pertumbuhan ekonomi yaitu tahap: masyarakat tradisional, prasyarat untuk lepas landas, tinggal landas, kematangan dan konsumsi tinggi dikemukakan oleh

A. Walt Whitman Rostow

B. Schumpeter

C. Harrod-Domar

D. Ekonomi klasik

E. Ekonomi Neo klasik

27. Penyebab terjadinya pengangguran karena berkurangnya permintaan barang dan jasa. Contohnya berkurangnya permintaan pakaian di kalangan tukang jahit tradisional karena adanya industri garmen/ konveksi yang lebih modern dan telah punya merek terkenal disebut pengangguran
- A. Siklus
 - B. Musiman
 - C. Struktural
 - D. Friksional
 - E. Teknologi

28. Perhatikan tabel berikut:

Tabel
Jumlah Angkatan Kerja, Penduduk Bekerja, Pengangguran,
TPAK, dan TPT Indonesia Tahun 2007-2013

Tahun	Angkatan Kerja (juta orang)	Bekerja (juta orang)	Pengangguran (juta orang)	TPAK	TPT
2007	109,94	99,93	10,01	66,9	9,11
2008	111,95	102,55	9,39	67,18	8,39
2009	113,83	104,87	8,96	67,23	7,87
2010	116,53	108,21	8,32	67,72	7,14
2011	117,37	109,67	7,70	68,34	6,56
2012	118,05	110,81	7,24	67,88	6,14
2013	118,19	110,80	7,39	66,90	6,25

Sumber: Badan Pusat Statistik (BPS).

Berdasarkan data pengangguran di atas akan memberi dampak negatif bagi orang yang bersangkutan dan masyarakat di sekitarnya yaitu kecuali

- A. Kelesuan ekonomi

- B. Menurunnya tingkat kesejahteraan masyarakat
- C. Terganggunya stabilitas ekonomi
- D. Terganggunya stabilitas sosial politik
- E. Pemerataan pendapatan

29. APBN diarahkan untuk mengurangi pengangguran dan pemborosan sumber daya serta meningkatkan efisiensi dan efektifitas perekonomian. Dari pernyataan di atas sesuai dengan fungsi APBN yaitu....

- A. Alokasi
- B. Distribusi
- C. Stabilisasi
- D. Perencanaan
- E. Otorisasi

30. APBN yang disusun setiap tahun oleh pemerintah dengan persetujuan DPR memiliki beberapa fungsi dan tujuan. Berikut ini yang merupakan tujuan penyusunan APBN adalah....

- A. menjaga kestabilan arus uang dan arus barang sehingga dapat mencegah terjadinya inflasi yang tinggi maupun deflasi yang akan mengakibatkan kelesuan perekonomian (resesi)
- B. menentukan dengan jelas besar/kecilnya anggaran pengeluaran masing-masing bidang, sektor pembangunan, departemen, dan lembaga yang dibiayai oleh negara
- C. dapat digunakan untuk membiayai seluruh pengeluaran negara di berbagai sektor pembangunan dan di berbagai departemen atau lembaga
- D. pendorong pertumbuhan ekonomi dan pengendali tingkat inflasi, karena penerimaan dan pengeluaran APBN digunakan untuk meningkatkan pertumbuhan ekonomi
- E. pedoman pengeluaran dan penerimaan negara agar terjadi keseimbangan yang dinamis dalam melaksanakan kegiatan kenegaraan untuk meningkatkan produksi dan kesempatan kerja

31. Diketahui fungsi konsumsi suatu keluarga $C = 0,75Y + 500.000$. Jika pendapatan keluarga tersebut Rp3.000.000,00 sebulan, maka besarnya tabungan adalah... .

- A. -Rp500.000,00
- B. Rp250.000,00
- C. Rp500.000,00
- D. Rp750.000,00
- E. Rp2.250.000,00

32. Harga awal sebuah mebel Rp. 800.000,00 jumlah mebel yang ditawarkan pada saat itu 8 unit. Tetapi pada saat harga mebel tersebut turun menjadi Rp. 500.000,00 maka jumlah yang ditawarkan turun menjadi 6 unit. Berdasarkan data tersebut jenis elastisitasnya adalah

- A. Elastis
- B. Inelastis
- C. Uiter Elastis
- D. Elastis Sempurna
- E. In elastis sempurna

33. Perhatikan tabel IHK di bawah ini

BULAN/ TAHUN	IHK
NOVEMBER 2010	270,50
DESEMBER 2010	273,60
JANUARI 2011	280,70

Berdasarkan data di atas maka laju inflasi pada bulan Januari 2011 adalah sebesar..

- A. 3,77
- B. 3,87
- C. 2,62
- D. 2,59
- E. 1,14

34. Bidang pendidikan diberikan BOS (Bantuan Operasional Sekolah), pengeluaran tersebut merupakan pengeluaran negara
- A. Belanja pegawai
 - B. Belanja barang
 - C. Belanja modal
 - D. Pembayaran bunga utang
 - E. Belanja subsidi

35. Indeks harga konsumen pada tahun 2012:

Bulan	Indeks harga konsumen
April	100,50
Mei	106,50
Juni	108,55

Berdasarkan tabel diatas, laju inflasi bulan Juni adalah....

- A. 1,92 %
 - B. 1,65 %
 - C. 1,55 %
 - D. 1,42 %
 - E. 1,00 %
36. Dibeli saham Telkom 5 lot @10.000,00 fee broker 0,03% kemudian dijual semuanya dengan harga @10.500,00 fee broker 0,03% dikenakan PPn sebesar 1%, capital gain/loss penjualan saham telkom sebesar
- A. Rp1.575,00
 - B. Rp52.500,00
 - C. Rp194.425,00
 - D. Rp246.925,00
 - E. Rp248.500,00

37. Tidak ada satu negara pun di dunia ini yang tidak melakukan kerja sama dengan negara lain. Karena dengan kerja sama antar negara, khususnya dalam bidang perdagangan akan menyebabkan pilihan masyarakat terhadap barang dan/atau jasa semakin bervariasi dengan kualitas yang menjanjikan.

Berdasarkan kasus tersebut menunjukkan bahwa perdagangan internasional memiliki manfaat untuk

- A. Sumber devisa
- B. Perluasan kesempatan kerja
- C. Stabilisasi harga
- D. Peningkatan kualitas konsumsi
- E. Percepatan alih teknologi

38. Neraca pembayaran mempunyai komponen sebagai berikut:

- 1) Mengimpor Barang
- 2) Mengekspor barang ke Luar Negeri
- 3) Memberi pinjaman pada negara lain
- 4) Menerima bunga dan cicilan pinjaman dari Luar Negeri
- 5) Membayar jasa-jasa orang (pihak)Luar Negeri
- 6) Menerima pendapatan jasa dari Luar Negeri

Dari pernyataan diatas yang termasuk kedalam komponen neraca pembayaran debit adalah ...

- A. 1, 2, dan 3
- B. 1, 3, dan 5
- C. 2, 3, dan 6
- D. 2, 4, dan 6
- E. 3, 5, dan 6

39. Kuota adalah hambatan kuantitatif yang membatasi impor barang secara khusus dengan spesifikasi jumlah unit atau nilai total tertentu per periode waktu.

Dampak kebijakan kuota adalah sebagai berikut:

- 1) Harga barang melambung tinggi,
- 2) Konsumsi terhadap barang tersebut menjadi berkurang,
- 3) Meningkatnya produksi di dalam negeri.

- 4) Harga barang turun,
- 5) Konsumsi terhadap barang tersebut menjadi bertambah,
- 6) Produksi di dalam negeri berkurang.

Dampak kebijakan kuota impor bagi negara pengimpor adalah

- A. 1, 2, dan 3
- B. 1, 3, dan 5
- C. 2, 3, dan 6
- D. 2, 4, dan 6
- E. 3, 5, dan 6

40. Berikut adalah ketentuan tarif pajak penghasilan berdasarkan UU No. 36 Tahun 2008

No.	Jumlah Penghasilan Tidak Kena Pajak	Tarif
1	Sampai dengan Rp50.000.000,00	5 %
2	Di atas Rp50.000.000,00 s.d Rp250.000.000,00	15%
3	Di atas Rp250.000.000,00 s.d Rp500.000.000,00	25%
4	Lebih dari Rp500.000.000,00	30%

Pendapatan Tidak Kena Pajak (PTKP):

- Wajib pajak Rp15.840.000,00
- Istri tidak bekerja Rp1.320.000,00
- Anak (maksimal 3) Rp1.320.000,00 per anak

Bapak Riyono seorang karyawan mempunyai penghasilan setelah dipotong dana jabatan dan asuransi kesehatan sebesar Rp156.000.000,00 setahun. Ia mempunyai seorang istri yang tidak bekerja dengan 2 orang anak.

Berdasarkan data di atas maka besarnya pajak penghasilan terhutang Bapak Riyono setahun adalah....

- A. Rp2.500.000,00
- B. Rp2.640.000,00
- C. Rp12.930.000,00
- D. Rp15.430.000,00
- E. Rp20.430.000,00

41. Apabila akan mendirikan suatu perusahaan perlu mempersiapkan suatu perencanaan yang matang , dari mulai menentukan tempat, modal sampai dengan produksi yang akan dihasilkan, dalam fungsi manajemen disebut dengan....
- A. Planning
 - B. Organizing
 - C. Actuating
 - D. Commanding
 - E. Controlling
42. Manajemen berhubungan dengan pencapaian sesuatu tujuan yang dilakukan melalui dan dengan orang-orang lain. Oleh karena itu dibutuhkan adanya penerapan fungsi manajemen.
- Berikut ini yang merupakan manfaat penerapan fungsi pengorganisasian adalah...
- A. Bawahan dan atasan bekerja sesuai keahlian masing-masing.
 - B. Seluruh kerabat kerja mendapatkan motivasi dalam bekerja.
 - C. Dapat membandingkan antara rencana dengan pelaksanaan.
 - D. Terhindar dari kesalahan yang mungkin terjadi.
 - E. Meramalkan/memprediksi laba/rugi pada masa yang akan datang.
43. Kegiatan untuk mengatur dan mengkoordinasikan penggunaan sumber daya organisasi secara efektif dan efisien dalam rangka menciptakan dan menambah kegunaan suatu barang atau jasa disebut....
- A. Manajemen pemasaran
 - B. Manajemen keuangan
 - C. Manajemen produksi
 - D. Manajemen sumber dana
 - E. Manajemen personal
44. Konflik adalah perselisihan yang diawali dari suatu kesalah-pahaman yang terjadi dalam komunikasi, yang dapat mempengaruhi emosi orang-orang yang terlibat dalam komunikasi tersebut sehingga mengakibatkan ketegangan-

ketegangan yang dapat menimbulkan permasalahan. Konflik bisa terjadi antara sesama staf dalam suatu organisasi yang berakibat saling lempar tanggung jawab, kurang menghargai pekerjaan teman, persaingan tidak sehat, miskomunikasi/distorsi.

Solusi yang tepat dalam menangani konflik tersebut adalah, *kecuali*

- A. Tenangkan diri, jaga nafas Anda jangan terbawa emosi.
- B. Jangan memaksa "dia" untuk mengerti Anda, alihkan dengan memperlunak target.
- C. Jangan tergesa-gesa untuk minta maaf; dinginkan suasana dengan mengalihkan sejenak dengan menawarkan minum (kalau mungkin) atau upaya cari data yang lebih mendukung.
- D. Alihkan pembicaraan secara halus untuk meredakan emosi teman bicara, dan bila gejala konflik hilang, kembalilah pada pembicaraan inti dengan halus.
- E. Tetapkan salah satu siapa yang membantu anda dan siapa yang tidak

45. Akuntansi Umum (*General Accounting*) yang membahas mengenai penyusunan laporan keuangan secara berkala sesuai dengan SAK yang berlaku untuk menghasilkan informasi yang disajikan kepada pihak-pihak eksternal yang berkepentingan adalah

- A. Akuntansi keuangan
- B. Akuntansi biaya
- C. Akuntansi pemeriksaan
- D. Akuntansi perpajakan
- E. Akuntansi penganggaran

46. Sistem informasi yang fokus menyediakan informasi untuk pihak eksternal yang berorientasi pada masa silam dengan jangka waktu tertentu, disusun berdasarkan data-data yang sudah terjadi, serta didukung oleh bukti-bukti transaksi adalah sistem informasi....

- A. Manajemen
- B. Keuangan

- C. Komunikasi
- D. Akuntansi
- E. Teknologi

47. Akuntansi yang menyangkut pencatatan transaksi-transaksi suatu perusahaan dan penyusunan laporan berkala dimana laporan tersebut dapat memberikan informasi yang berguna bagi manajemen, para pemilik dan kreditor adalah....

- A. Akuntansi keuangan
- B. Akuntansi manajemen
- C. Akuntansi perpajakan
- D. Akuntansi biaya
- E. Akunansi sosial

48. Di bawah ini transaksi perusahaan jasa percetakan “Anugerah” selama bulan Oktober 2014

- 1) Pemilik memasukkan uang pribadinya ke kas perusahaan sebesar Rp. 50.000.000,00
- 2) Pemilik menginvestasikan 1 mesin foto copy senilai Rp.5.000.000,00
- 3) Telah dilunasi Sewa ruangan selama setahun Rp.15.000.000,00 untuk operasional perusahaan
- 4) Telah diselesaikan cetak buku dari Fa. Jaya senilai Rp.8.000.000,00 diterima uang sejumlah Rp. 7.000.000,00 dan sisanya 15 hari kemudian
- 5) Membayar biaya listrik dan air Rp.750.000,00

Berdasarkan transaksi di atas, maka transaksi yang dapat menambah modal adalah... .

- A. 1, 2, dan 3
- B. 1, 2, dan 4
- C. 2, 3, dan 4
- D. 2, 3, dan 5
- E. 3, 4, dan 5

49. Tanggal 2 Februari 2015 bengkel "Ramlaku" membeli meja seharga Rp 5.750.000,00. Baru dibayar Rp2.750.000,00

Transaksi ini akan mengakibatkan perubahan sebagai berikut yaitu

- A. Peralatan bertambah Rp 5.750.000,00 di Debet, Kas berkurang Rp2.750.000,00 di Kredit dan Utang berkurang di Kredit Rp3.000.000,00
- B. Peralatan bertambah Rp 5.750.000,00 di Debet, Kas bertambah Rp2.750.000,00 di Kredit dan Utang berkurang di Kredit Rp3.000.000,00
- C. Perlengkapan bertambah Rp 5.750.000,00 di Debet, Kas berkurang Rp2.750.000,00 di Kredit dan Utang bertambah di Kredit Rp3.000.000,00
- D. Peralatan bertambah Rp 5.750.000,00 di Debet, Kas berkurang Rp2.750.000,00 di Kredit dan Utang bertambah di Kredit Rp3.000.000,00
- E. Peralatan berkurang Rp 5.750.000,00 di Debet, Kas berkurang Rp2.750.000,00 di Kredit dan Utang berkurang di Kredit Rp3.000.000,00

50. CV. Mandiri Sejahtera yang bergerak di bidang jasa transportasi membeli satu unit computer senilai Rp5.500.000,00 baru dibayar Rp5.000.000,00 sisanya bulan depan. Oleh CV. Mandiri Sejahtera, pencatatan transaksi tersebut ke dalam jurnal umum adalah....

- A. Perlengkapan Rp5.000.000,00
 Kas Rp5.000.000,00
- B. Kas Rp5.500.000,00
 Perlengkapan Rp5.500.000,00
- C. Peralatan Rp5.000.000,00
 Utang usaha Rp500.000,00
 Kas Rp5.500.000,00
- D. Peralatan Rp5.500.000,00
 Kas Rp5.000.000,00
 Utang Usaha Rp 500.000,00
- E. Peralatan Rp5.500.000,00
 Kas Rp5.500.000,00

51. Akun-akun yang memengaruhi harga pokok penjualan adalah

- A. Penjualan, persediaan barang dagangan (awal), Pembelian, Beban Angkut Penjualan, Retur Pembelian dan Pengurangan harga, Potongan Pembelian, Persediaan barang dagangan (akhir)
- B. Penjualan, persediaan barang dagangan (awal), Pembelian, Beban Angkut Pembelian, Retur Pembelian dan Pengurangan harga, Potongan Penjualan, Persediaan barang dagangan (akhir)
- C. Penjualan, persediaan barang dagangan (awal), Pembelian, Beban Angkut Pembelian, Retur Penjualan dan Pengurangan harga, Potongan Pembelian, Persediaan barang dagangan (akhir)
- D. Penjualan, biaya angkut penjualan, persediaan barang dagangan (awal), Pembelian, Beban Angkut Pembelian, Retur Pembelian dan Pengurangan harga, Potongan Pembelian, Persediaan barang dagangan (akhir)
- E. Persediaan barang dagangan (awal), Pembelian, Beban Angkut Pembelian, Retur Pembelian dan Pengurangan harga, Potongan Pembelian, Persediaan barang dagangan (akhir)

52. Data perusahaan dagang “mBah Surip” pada bulan Desember 2011 sebagai berikut :

- 1) Persediaan barang dagang
 - Per 1 Januari 2011 Rp200.000,00
 - Per 31 Desember 2011 Rp300.000,00
- 2) Pembelian Rp1.500.000,00
- 3) Retur pembelian Rp100.000,00
- 4) Beban angkut pembelian Rp150.000,00
- 5) Potongan pembelian Rp50.000,00

Dari data diatas besarnya Harga Pokok Penjualan (HPP) adalah

- A. Rp1.400.000,00
- B. Rp1.500.000,00
- C. Rp1.700.000,00
- D. Rp1.700.000,00
- E. Rp2.000.000,00

53. Perusahaan Jasa maupun Dagang memiliki ciri-ciri sebagai berikut:

- 1) Kas
- 2) Piutang
- 3) Pembelian
- 4) Utang
- 5) Pendapatan jasa
- 6) Penjualan
- 7) Beban angkut pembelian
- 8) Potongan harga

Berdasarkan akun-akun di atas yang merupakan ciri-ciri akun perusahaan dagang adalah

- A. 1), 3), 5), 7), 8)
- B. 1), 2), 3), 6), 7)
- C. 2), 3), 6), 7), 8)
- D. 2), 3), 6), 7), 8)
- E. 3), 4), 5), 6), 8)

54. Sebagian transaksi pada Salon "Suci" pada bulan Juni 2013:

- tanggal 10 membeli meja rias, dan hair dryer dari Toko Nunik sebesar Rp5.500.000,00 dibayar tunai Rp3.500.000,00 sisanya akan dibayar satu bulan kemudian
- tanggal 12 diselesaikan merias pengantin seharga Rp1.500.000,00 baru diterima Rp500.000,00
- tanggal 15 diterima tagihan seminggu yang lalu dari Ibu Reny Rp250.000,00
- Pencatatan yang benar dari transaksi tersebut oleh Salon "Suci" dalam jurnal umum...

A. JURNAL UMUM

Tanggal	Keterangan	Ref	Debet	Kredit
2013 Juni	10	Perlengkapan Salon	Rp5.500.000,00	-
		Kas	-	Rp3.500.000,00
		Utang Usaha	-	Rp2.000.000,00
	12	Kas	Rp 500.000,00	-

		Piutang Usaha		Rp1.000.000,00	-
		Pendapatan Jasa		-	Rp1.500.000,00
	13	Kas		Rp 250.000,00	-
		Piutang Usaha		-	Rp 250.000,00

B. JURNAL UMUM

Tanggal		Keterangan	Ref	Debet	Kredit
2013 Juni	10	Peralatan Salon		Rp5.500.000,00	-
		Kas		-	Rp3.500.000,00
		Utang Usaha		-	Rp2.000.000,00
	12	Kas		Rp1.000.000,00	-
		Piutang Usaha		Rp 500.000,00	-
		Pendapatan Jasa		-	Rp1.500.000,00
	13	Kas		Rp 250.000,00	-
		Piutang Usaha		-	Rp 250.000,00

C. JURNAL UMUM

Tanggal		Keterangan	Ref	Debet	Kredit
2013 Juni	10	Peralatan Salon		Rp5.500.000,00	-
		Kas		-	Rp3.500.000,00
		Utang Usaha		-	Rp2.000.000,00
	12	Kas		Rp 500.000,00	-
		Piutang Usaha		Rp1.000.000,00	-
		Pendapatan Jasa		-	Rp1.500.000,00
	13	Kas		Rp 250.000,00	-
		Pendapatan Jasa		-	Rp 250.000,00

D. JURNAL UMUM

Tanggal		Keterangan	Ref	Debet	Kredit
2013 Juni	10	Peralatan Salon		Rp5.500.000,00	-
		Kas		-	Rp3.500.000,00
		Utang Usaha		-	Rp2.000.000,00
	12	Kas		Rp1.500.000,00	-

		Utang Usaha	-	Rp1.000.000,00
		Pendapatan Jasa	-	Rp 500.000,00
	13	Kas	Rp 250.000,00	-
		Piutang Usaha	-	Rp 250.000,00

E. JURNAL UMUM

Tanggal		Keterangan	Ref	Debet	Kredit
2013 Juni	10	Peralatan Salon		Rp5.500.000,00	-
		Kas		-	Rp3.500.000,00
		Utang Usaha		-	Rp2.000.000,00
	12	Kas		Rp 500.000,00	-
		Piutang Usaha		Rp1.000.000,00	-
		Pendapatan Jasa		-	Rp1.500.000,00
	13	Kas		Rp 250.000,00	-
		Piutang Usaha		-	Rp 250.000,00

55. Sebagian jurnal umum yang dibuat oleh Pencucian Mobil “Bening” pada bulan Desember 2013:

Jurnal Umum

Halaman 12

Tanggal		Akun / keterangan	Ref	D	K
2013 Desember	3	Kas	111	Rp 300.000,00	-
		Piutang Usaha	112	-	Rp 300.000,00
	7	Beban Listrik	513	Rp 500.000,00	-
		Kas	111	-	Rp 500.000,00
	12	Utang Usaha	211	Rp1.000.000,00	-
		Kas	111	-	Rp1.000.000,00

Data saldo per 30 November 2013 diketahui sebagai berikut:

- Saldo Kas Rp7.500.000,00
- Saldo Piutang Usaha Rp500.000,00
- Saldo Utang Usaha Rp4.500.000,00

Berdasarkan data di atas maka posting ke buku besar yang benar adalah... .

A. Debet Kas Nomor 111 Kredit

1/12	Rp7.500.000,00	7/12	Rp 300.000,00
3/12	Rp 500,000,00	12/12	Rp1.000.000,00
B. Debet Kas Nomor 111 Kredit			
1/12	Rp7.500.000,00	7/12	Rp 500.000,00
3/12	Rp 300,000,00	12/12	Rp1.000.000,00
C. Debet Piutang Usaha Nomor 113 Kredit			
		1/12	Rp 500.000,00
		3/12	Rp 300.000,00
D. Debet Utang Usaha Nomor 211 Kredit			
1/12	Rp4.500.000,00		
12/12	Rp1.000,000,00		
E. Debet Beban Listrik Nomor 513 Kredit			
7/12	Rp 500.000,00		
12/12	Rp1.000,000,00		

56. Pada tanggal 1 September 2015 dibayar biaya pemasangan iklan pada majalah Kristina Rp7.500.000,00 untuk 10 kali terbit dan dicatat pada akun beban iklan. Sampai dengan tanggal 31 Desember 2011, iklan yang sudah diterbitkan 4 kali.

Jurnal penyesuaian yang tepat adalah

- | | | |
|----|------------------------------|----------------|
| A. | Iklan di bayar di muka | Rp3.000.000,00 |
| | Biaya Iklan | Rp3.000.000,00 |
| B. | Iklan di bayar di muka | Rp4.500.000,00 |
| | Biaya iklan | Rp4.500.000,00 |
| C. | Biaya Iklan | Rp3.000.000,00 |
| | Biaya Iklan di bayar di muka | Rp3.000.000,00 |
| D. | Biaya Iklan | Rp4.500.000,00 |
| | Iklan dibayar di muka | Rp4.500.000,00 |

E.	Biaya Iklan	Rp7.500.000,00
	Iklan dibayar di muka	Rp7.500.000,00

57. Perkiraan-perkiraan sebagian milik PD RENCANA MAJU sebagai berikut

-	Persediaan barang dagang awal	Rp2.500.000,00
-	Pembelian	Rp4.700.000,00
-	Beban angkut pembelian	Rp100.000,00
-	Retur pembelian dan PH	Rp200.000,00
-	Potongan pembelian	Rp100.000,00
-	Penjualan Bersih	Rp9.500.000,00
-	Beban Listrik dan Telepon	Rp750.000,00
-	Persediaan barang dagang akhir	Rp1.500.000,00

Dari data di atas, nilai barang yang tersedia untuk dijual adalah... .

- A. Rp9.500.000,00
- B. Rp7.000.000,00
- C. Rp5.500.000,00
- D. Rp4.500.000,00
- E. Rp4.000.000,00

58. Sebuah perusahaan dagang, pada akhir periode akuntansi memiliki data berikut ini :

▪	Persediaan barang dagang (awal)	Rp24.000.000,00
▪	Pembelian	Rp68.000.000,00
▪	Retur pembelian	Rp3.000.000,00
▪	Potongan pembelian	Rp800.000,00
▪	Persediaan barang dagang (akhir)	Rp26.000.000,00
▪	Penjualan	Rp92.000.000,00
▪	Retur penjualan	Rp4.000.000,00
▪	Potongan penjualan	Rp1.300.000,00
▪	Beban angkut pembelian	Rp1.000.000,00
▪	Beban angkut penjualan	Rp1.400.000,00
▪	Rugi di luar usaha	Rp3.500.000,00

Berdasarkan data di atas, besarnya laba bersih adalah ...

- A. Rp65.200.000,00
- B. Rp63.200.000,00
- C. Rp23.500.000,00
- D. Rp22.100.000,00
- E. Rp18.600.000,00

59. Sebuah perusahaan dagang, pada akhir periode akuntansi memiliki data berikut ini :

▪ Persediaan barang dagang (awal)	Rp24.000.000,00
▪ Pembelian	Rp68.000.000,00
▪ Retur pembelian	Rp3.000.000,00
▪ Potongan pembelian	Rp800.000,00
▪ Persediaan barang dagang (akhir)	Rp26.000.000,00
▪ Penjualan	Rp92.000.000,00
▪ Retur penjualan	Rp4.000.000,00
▪ Potongan penjualan	Rp1.300.000,00
▪ Beban angkut pembelian	Rp1.000.000,00
▪ Beban angkut penjualan	Rp1.400.000,00
▪ Rugi di luar usaha	Rp3.500.000,00

Berdasarkan data di atas, besarnya laba bersih adalah ...

- A. Rp65.200.000,00
- B. Rp63.200.000,00
- C. Rp23.500.000,00
- D. Rp22.100.000,00
- E. Rp18.600.000,00

60. Data dari bengkel Charisma sebagai berikut:

Modal akhir	Rp12.225.000,00
Pendapatan jasa	Rp10.875.000,00
Beban usaha	Rp13.500.000,00
modal awal	Rp15.225.000,00

Dari data di atas, besarnya prive adalah....

- A. Rp375.000,00
- B. Rp475.000,00

C. Rp2.250.000,00

D. Rp2.625.000,00

E. Rp3.000.000,00