

SOAL TRY OUT PAKET A

1. Ketika tahun pelajaran baru tiba, setiap siswa membutuhkan seragam sekolah, alat tulis dan buku. Hal ini menjadi peluang bagi produsen untuk menyediakan barang tersebut, dibanding apabila ia memproduksi barang lainnya. Dari uraian di atas tindakan produsen yang sesuai adalah ...
 - a. barang apa yang akan diproduksi
 - b. bagaimana cara memproduksi
 - c. untuk siapa barang
 - d. dengan apa barang diproduksi
 - e. kapan barang diproduksi
2. Pokok masalah ekonomi masyarakat adanya keterbatasan sumber daya alam. Untuk mengatasi masalah tersebut dapat dilakukan dengan cara berikut ini, *kecuali*....
 - a. menghemat penggunaan sumber daya alam
 - b. menggunakan sumber daya alam sepuasnya tanpa batas.
 - c. memelihara dan melestarikan sumber daya alam dengan baik.
 - d. menciptakan alat pemuas atau barang pengganti
 - e. meningkatkan pengelolaan berbagai macam sumber daya alam sehingga lebih bermanfaat bagi masyarakat.
3. Kegiatan-kegiatan dalam bidang ekonomi, antar lain:
 - 1) Menyediakan faktor produksi
 - 2) Membeli kebutuhan sehari-hari seperti sandang dan pangan
 - 3) Membayar pajak ke Kas Negara
 - 4) Membayar upah karyawan, bunga dan biaya-biaya lainnya
 - 5) Menerima sewa, gaji dan laba usahanya
 - 6) Membayar pajak karyawan perusahaanKegiatan ekonomi yang dilakukan oleh rumah tangga konsumsi adalah....
 - a. 1, 2, dan 3
 - b. 1, 2, dan 5
 - c. 2, 3, dan 4
 - d. 2, 3, dan 5
 - e. 4, 5, dan 6
4. Dibawah ini merupakan ciri-ciri sistem ekonomi:
 - 1) Hanya memproduksi yang menguasai hajat hidup rakyat dilaksanakan oleh pemerintah.
 - 2) Pengakuan hak milik pribadi.
 - 3) Belum ada pembagian kerja.
 - 4) Kebebasan konsumen.
 - 5) Hasil produksi untuk memenuhi kebutuhan sendiri.Yang merupakan ciri sistem ekonomi pasar adalah...
 - a. 1 dan 2
 - b. 1 dan 3
 - c. 2 dan 4
 - d. 3 dan 4
 - e. 4 dan 5

5. Tabel permintaan beras di suatu daerah dalam satu bulan:

Harga per Kg	Jumlah permintaan
Rp.800,00	40 unit
Rp.1.200,00	38 unit

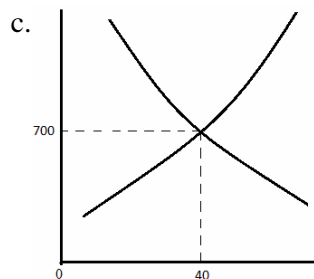
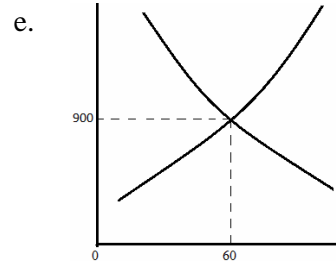
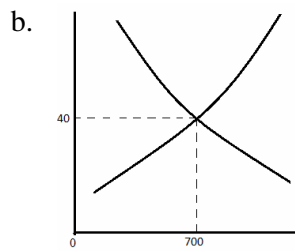
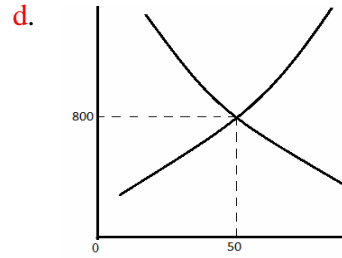
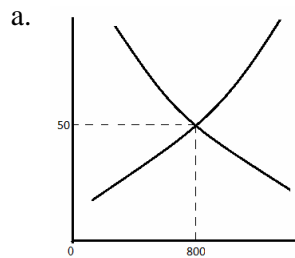
Berdasarkan tabel permintaan di atas maka besarnya koefisien elastisitas permintaan sebesar....

- a. 0,10
- b. 0,12
- c. 0,15
- d. 0,20
- e. 0,25

6. Daftar permintaan dan penawaran suatu barang “y” sebagai berikut:

Harga	Jumlah Penawaran	Jumlah Permintaan
Rp. 600	30 unit	70 unit
Rp.700	40 unit	60 unit
Rp.800	50 unit	50 unit
Rp.900	60 unit	40 unit
Rp.1.000	70 unit	30 unit

Berdasarkan tabel di atas kurva keseimbangan pasar yang benar adalah...



7. Keadaan pasar dimana para penjual dan pembeli tidak dapat menentukan atau tidak dapat mempengaruhi harga disebut...

- a. Monopoli
- b. Persaingan sempurna
- c. Persaingan monopolistik
- d. Pasar bebas
- e. Oligopoli

8. Perhatikan ciri-ciri balas jasa dari pasar faktor produksi yang berikut:

- 1) Balas jasa yang diterima berupa upah
- 2) Permintaan berasal dari rumah tangga produsen
- 3) Permintaan berasal dari rumah tangga konsumen
- 4) Penawaran berasal dari rumah tangga konsumen
- 5) Hasil produksi rumah tangga produsen berupa barang atau jasa.

Berdasarkan ciri-ciri di atas yang termasuk ciri-ciri pasar faktor produksi tenaga kerja meliputi...

- a. 1, 2 dan 3
- b. 1, 2 dan 4
- c. 1, 3 dan 4
- d. 2, 3 dan 4
- e. 2,3 dan 5

9. Cara Pemerintah mengatasi inflasi yang dilakukan dengan menerapkan kebijakan moneter dan kebijakan fiskal :

- 1. politik diskonto
- 2. Menaikkan pajak
- 3. politik pasar terbuka
- 4. menaikkan cash ratio
- 5. meningkatkan impor
- 6. meningkatkan pinjaman

Kebijakan-kebijakan pemerintah diatas yang merupakan kebijakan moneter adalah....

- A. 1, 2 dan 3
- B. 1, 3 dan 4
- C. 2, 4 dan 5
- D. 3, 4 dan 6
- E. 4, 5 dan 6

10. Data Pendapatan nasional (dalam Milyar Rupiah)

Upah	4.900	Laba	3.100	Sewa	100
Bunga	200	Konsumsi	2.000	Investasi	900
Belanja pemerintah	1.200	Ekspor	2.000	Impor	1.500
Pertanian	4.800	Pertambangan	5.000	Industri	3.000
Jasa	500				

Berdasarkan data diatas maka besar pendapatan nasional menurut pendekatan pendapatan adalah...

- A. Rp 12.900 M
- B. Rp 12.100 M
- C. RP 11.600 M
- D. RP 8.300 M
- E. RP 5.500 M

11. Index harga :

Bulan	Index harga
Maret	106%
April	111%
Mei	118%
Juni	100 %

Tingkat insflasi bulan Mei sebesar

- a. 4,72 %
- b. 6,00 %
- c. 6,31 %
- d. 11,00 %
- e. 18,00 %

12. Fungsi konsumsi $S = -13 M + 0,25 Y$. Jika pendapatan nasional 75 M maka besarnya konsumsi adalah

- a. 18,75 M
- b. 31,75 M
- c. 52,00M
- d. 83,00 M
- e. 88,00 M

13. Bapak Abu Mahmud menjual rumah dan mobilnya yang ada di Jakrta untuk bekal kembali ke kampung halaman Kabupaten Pekalongan. Di Pekalongan Bapak Abu Mahmud membangun rumah, villa dan membuka usaha batik. Kegiatan tersebut merupakan penerapan fungsi uang sebagai alat....

- A. Penimbun kekayaan
- B. Satuan Hitung
- C. Pembayaran
- D. Pemindah kekayaan
- E. Tukar

14. Peran bank-bank di Indonesia antara lain:

- 1. Member pelayanan kredit jangka pendek, menengah maupun panjang
- 2. Mengatur dan mengawasi bank-bank lain di Indonesia

3. Menghimpun dana dan menyalurkan dana dari masyarakat dalam bentuk tabungan, deposito dan giro
4. Menjaga stabilitas nilai uang
5. Menjalankan prinsip bagi hasil dan menghapus riba
6. Melaksanakan kebijakan moneter

Dari peranan di atas, yang merupakan peranan bank sentral adalah....

- A. 1, 2 dan 3
- B. 1, 3 dan 5
- C. 2, 4 dan 6
- D. 3, 4 dan 5
- E. 4, 5 dan 6

15. Di bawah ini ciri-ciri pertumbuhan dan pembangunan ekonomi:

1. proses peningkatan kesejahteraan rakyat
2. proses kenaikan output yang terus menerus
3. proses terjadinya perubahan struktur perekonomian
4. memperhitungkan kecepatan pertumbuhan penduduk
5. proses pertumbuhan pendapatan perkapita secara terus menerus

Berdasarkan pernyataan diatas, yang termasuk ciri pembangunan ekonomi adalah....

- A. 1, 2 dan 3
- B. 1,3 dan 4
- C. 2,3 dan 4
- D. 2, 4 dan 5
- E. 3,4 dan 5

16. Akibat krisis ekonomi yang berkepanjangan, Indonesia mengalami peningkatan jumlah pengangguran yang berdampak kepada aspek sosial dan ekonomi seperti berikut ini:

1. meningkatnya tindak kriminalitas
2. menurunnya tingkat pendapatan masyarakat
3. meningkatnya penderita gizi buruk
4. menurunnya penerimaan masyarakat
5. ketidakstabilan politik dan keamanan

Dari dampak-dampak pengangguran diatas, yang termasuk dampak pengangguran akibat dari aspek ekonomi adalah....

- A. 1, 2 dan 3
- B. 1, 2 dan 4
- C. 2, 3 dan 4
- D. 2, 3 dan 5
- E. 3, 4 dan 5

17. APBN Negara X

Penerimaan dalam negeri Rp 209.765 M

Hibah Rp 75.676,1 M

Pengeluaran Rutin Rp 154.251,5 M

Pengeluaran Pembangunan Rp 120.675.2 M

Dari data diatas posisi APBN Negara X adalah....

- A. surplus Rp 10.154,4 M
- B. deficit Rp Rp 10.154,4 M
- C. berimbang
- D. surplus Rp 55513,5
- E. deficit Rp 44999,1

18. Pemerintah Pusat dan Pemerintah daerah memiliki penerimaan sebagai berikut:

- 1. pajak penghasilan
- 2. gas alam
- 3. hibah
- 4. pajak kendaraan bermotor
- 5. laba BUMN
- 6. laba BUMD
- 7. pajak tontonan

Dari pernyataan di atas penerimaan pemerintah pusat adalah....

- A. 1, 2 dan 3
- B. 1, 3 dan 4
- C. 2,3 dan 5
- D. 2, 4 dan 6
- E. 3, 5 dan 7

19. Seorang wajib pajak mempunyai :

- Tanah seluas 1.000 m dengan harga jual Rp 50.000,00 / m
- Gedung seluas 250 m dengan harga jual Rp 300.000,00/ m
- Pagar sepanjang 100 m lebar 2 m dan harga jual Rp 50.000,00/ m

Bangunan tidak kena pajak Rp 10.000.000,00 maka PBB yang harus dibayar sebesar....

- A. Rp 25.000,00
- B. Rp 125.000,00
- C. Rp 250.000,00
- D. Rp 12.500.000,00
- E. Rp 25.000.000,00

20. Berikut ini adalah penyebab dan manfaat perdagangan internasional

- 1. menghemat biaya produksi
- 2. pengalihan teknologi
- 3. perbedaan biaya produksi
- 4. perluasan kesempatan kerja
- 5. kegiatan untuk mendapatkan devisa

Manfaat perdagangan internasional adalah....

- A. 1, 2 dan 3
- B. 2, 3 dan 4
- C. 3, 4 dan 5
- D. 2, 4 dan 5

E. 1, 3 dan 5

21. Transaksi neraca pembayaran

1. Menerima deviden penanaman modal
2. Membayar jasa asuransi ke luar negeri
3. Memperhitungkan bunga investasi di luar negeri
4. Memperhitungkan deviden pembelian saham luar negeri
5. Memperhitungkan bunga investasi orang luar negeri di Indonesia

Yang dikategorikan transaksi kredit adalah....

- A. 1, 2 dan 3
- B. 1, 3 dan 4
- C. 1, 4 dan 5
- D. 2, 3 dan 4
- E. 2, 3 dan 5

22. Berikut ini keuntungan dan kerugian kepemilikan saham dan obligasi:

1. Bunga
2. Capital gain
3. Deviden
4. Capital loss

Yang termasuk manfaat saham adalah....

- A. 1 dan 2
- B. 1 dan 3
- C. 2 dan 3
- D. 2 dan 4
- E. 3 dan 4

23. Seorang turis Amerika tiba di Bali dan menukarkan US 100.000,00 di salah satu Bank di Bali.

Catatan kurs saat itu :

Beli 1 US \$ = Rp 9.000,00

Tengah 1 US \$ = Rp 9.125,00

Jual 1 US \$ = Rp 9.250,00

Selama di Bali Turis tersebut membelanjakan uangnya sebanyak Rp 810.000.000,00. Berapa US \$ dibawa turis tersebut jika ia menukarkan kembali sisa uangnya dengan dolar amerika serikat bila catatan kurs yang berlaku :

Beli 1 US \$ = Rp 8.750,00

Tengah 1 US \$ = Rp 8.875,00

Jual 1 US \$ = Rp 9.000,00

- A. US \$ 8.000
- B. US \$ 9.000
- C. US \$ 10.000
- D. US \$ 11.000
- E. US \$ 12.000

24. Bengkel Motor Perkasa pada awal berdirinya terdapat transaksi berikut:

1. Pemilik bengkel menyerahkan modal sebesar Rp.6.600.000,00 dan peralatan bengkel seharga Rp.4.350.000,00.
2. Dibeli perlengkapan bengkel seharga Rp.2.500.000,00 dibayar tunai Rp.1.000.000,00 dan sisanya diangsur
3. Dibayar sewa bengkel senilai Rp.900.000,00 sebulan.

Berdasarkan transaksi di atas pencatatan dalam persamaan dasar akuntansi yang benar adalah....

A. Persamaan Dasar Akuntansi (dalam ribuan rupiah)

No	Kas	Perlengkapan Bengkel	Peralatan Bengkel	Utang Usaha	Modal Sentoso	Ket
1	6.600	-	4.350	-	10.950	Modal awal
2	(1.000)	1.000	-	-	-	-
3	(900)	-	-	-	(900)	Beban sewa

B. Persamaan Dasar Akuntansi (dalam ribuan rupiah)

No	Kas	Perlengkapan Bengkel	Peralatan Bengkel	Utang Usaha	Modal Santoso	Ket
1	6.600	-	4.350	-	10.950	Modal awal
2	(1.000)	1.000	-	1.500	(2.500)	-
3	(900)	-	-	-	(900)	Beban sewa

C. Persamaan Dasar Akuntansi (dalam ribuan rupiah)

No	Kas	Perlengkapan Bengkel	Peralatan Bengkel	Utang Usaha	Modal Santoso	Ket
1	6.600	-	4.350	-	10.950	Modal awal
2	(1.000)	2.500	-	1.500	-	-
3	(900)	-	-	-	(900)	Beban sewa

D. Persamaan Dasar Akuntansi (dalam ribuan rupiah)

No	Kas	Perlengkapan	Peralatan	Utang	Modal	Ket
----	-----	--------------	-----------	-------	-------	-----

		Bengkel	Bengkel	Usaha	Santoso	
1	6.600	-	4.350	-	6.600	Modal awal
2	(2.500)	2.500	-	-	-	-
3	(900)	-	-	-	(900)	Beban sewa

E. Persamaan Dasar Akuntansi (dalam ribuan rupiah)

No	Kas	Perlengkapan Bengkel	Peralatan Bengkel	Utang Usaha	Modal Santoso	Ket
1	6.600	4.350	-	-	10.950	Modal awal
2	(1.000)	2.500	-	1.500	-	-
3	(900)	-	-	-	(900)	Beban sewa

Kunci : C

25. Salon Kecantikan Suzana telah menyelesaikan jasa pelayanannya kepada pelanggan dengan upah yang diperhitungkan Rp.450.000,00 dari jumlah tersebut baru diterima Rp.300.000,00 dan sisanya akan dibayar bulan depan. Kejadian di atas akan dicatat dalam jurnal umum oleh Salon Kecantikan Suzana adalah....

A. Kas	Rp.300.000,00	-
Utang usaha	Rp.150.000,00	-
Pendapatan jasa servis	-	Rp.450.000,00
B. Kas	Rp.300.000,00	-
Pendapatan jasa service	Rp.150.000,00	-
Modal	-	Rp.450.000,00

C. Pendapatan jasa servis	Rp.450.000,00	-
Kas	-	Rp.300.000,00
Utang usaha	-	Rp.150.000,00
D. Pendapatan Jasa servis	Rp.450.000,00	-
Kas	-	Rp.300.000,00
Piutang usaha	-	Rp.150.000,00
E. Kas	Rp.300.000,00	-
Piutang usaha	Rp.150.000,00	-
Pendapatan jasa service	-	Rp.450.000,00

Kunci : E

26. Perhatikan data berikut:

Jurnal umum

hal.8

tanggal		Nama akun	ref	D	K
2010	1	Beban gaji	501	Rp400.000	
Juni		kas	111		Rp400.000
	3	kas	111	Rp750.000	
		Pendapatan servis	401		Rp750.000

Posting jurnal umum ke buku besar yang benar adalah....

1. Kas No. 111

tanggal		ket	ref	debit	kredit	saldo	
						debit	kredit
2010	1	JU	8		Rp400.000		Rp400.000
Juni	3	JU	8	Rp750.000		Rp750.000	

2. Kas No.111

tanggal	ket	ref	debit	kredit	saldo	
					debit	kredit
2010	1	JU	8	Rp 400.000		Rp400.000
Juni	3	JU	8	Rp750.000	Rp350.000	

3. Pendapatan service No.403

tanggal	ket	ref	debit	kredit	saldo	
					debit	kredit
2010	1	JU	8	Rp750.000	Rp750.000	
Juni						

4. Beban gaji No. 503

tanggal	ket	ref	debit	kredit	saldo	
					debit	kredit
2010	3	JU	8	Rp400.000	Rp400.000	
Juni						

Posting jurnal umum ke buku besar yang benar adalah....

- A. 1 dan 2
- B. 1 dan 3
- C. 1 dan 4
- D. 2 dan 3
- E. 2 dan 4

Kunci : E

27. Diketahui sebagian neraca saldo "Salon Ayu" kota Pekalongan per 31 Desember 2010 sebagai berikut :

No. Akun	Nama Akun	D	K
----------	-----------	---	---

Kunci : C

29. Biro jasa Amanah mempunyai data keuangan sebagai berikut:

Pendapatan jasa Rp 18.000.000,00

Pendapatan bunga Rp 1.500.000,00

Beban gaji Rp 12.000.000,00

Beban perlengkapan Rp 2.000.000,00

Beban Penyusutan peralatan Rp 1.000.000,00

Beban sewa RP 4.000.000,00

Pengambilan pribadi Rp 2.500.000,00

Berdasarkan data di atas, biro jasa Amanah memperoleh....

- A. Laba Rp 500.000,00
- B. Rugi Rp 500.000,00
- C. Laba Rp 1.000.000,00
- D. Rugi Rp 1.000.000,00
- E. Rugi Rp 2.000.000,00

KUNCI : A

30. Perusahaan servis OKE mempunyai data sebagai berikut:

Modal, 31-12-2010 Rp 10.000.000,00

Modal, 1-1-2010 Rp 9.500.000,00

Total Beban Rp 1.500.000,00

Prive eko Rp 1.000.000,00

Maka besarnya pendapatan servis adalah....

- A. Rp 500.000,00
- B. Rp 1.500.000,00
- C. Rp 2.000.000,00
- D. Rp 2.500.000,00
- E. Rp 3.000.000,00

KUNCI : E

31. Dalam UD MANDIRI, rekapitulasi dari jurnal penerimaan kas tanggal 31 Januari 2010 sebagai berikut:

Kas	Rp. 8.000.000,00
Potongan penjualan	Rp. 400.000,00
Piutang dagang	Rp. 4.500.000,00
Penjualan	Rp. 2.500.000,00

Jurnal tersebut diposting kedalam akun buku besar yang paling benar adalah:

- A. Kas (D) Rp. 8.000.000,00, Potongan penjualan (K) Rp. 400.000,00, Piutang dagang (D) Rp. 4.500.000,00, dan Penjualan (K) Rp. 2.500.000,00
- B. Kas (D) Rp. 8.400.000,00, Piutang dagang (D) Rp. 4.500.000,00, Penjualan (K) Rp. 2.500.000,00, Potongan Penjualan (K) Rp. 400.000,00
- C. Kas (D) Rp. 8.000.000,00, Potongan penjualan (D) Rp. 400.000,00, Piutang dagang (K) Rp. 4.500.000,00, dan Penjualan (K) Rp. 2.500.000,00
- D. Kas (K) Rp. 8.000.000,00, Potongan penjualan (D) Rp. 400.000,00, Piutang dagang (K) Rp. 4.500.000,00, dan Penjualan (D) Rp. 2.500.000,00
- E. Kas (K) Rp. 8.000.000,00, Potongan penjualan (K) Rp. 400.000,00, Piutang dagang (K) Rp. 4.500.000,00, dan Penjualan (D) Rp. 2.500.000,00

KUNCI : C

32. Berikut data Jurnal Pembelian dan Jurnal Umum PD Mulya:

PD Mulya

Jurnal Pembelian

Per 31 Januari 2010

Halaman 1

Tanggal		No. Faktur	Keterangan	Syarat Pembayaran	Debet	Kredit
					Pembelian	Utang Dagang
2010	2	241	PT Cahaya	2/10, n/30	5.000.000,00	5.000.000,00
Jan	9	313	Toko Gerhana	2/10, n/30	2.000.000,00	2.000.000,00
	10	417	Toko Surya	2/10, n/30	1.000.000,00	1.000.000,00

	22	255	PT Cahaya	2/10, n/30	6.000.000,00	6.000.000,00
					14.000.000,00	14.000.000,00
					(511)	(201)

PD MULYA

Jurnal Umum

Per 31 Januari 2010

Halaman 1

Tanggal		Keterangan	Ref	Debet	Kredit
2010	24	Utang Dagang (PT Sinar)	201	500.000,00	-
Jan		Retur Pembelian dan PH	505	-	500.000,00
				500.000,00	500.000,00

Berdasarkan kedua jurnal di atas, buku besar pembantu utang yang benar adalah.... .

A. Nama Kreditur: PT CAHAYA

No. : 001

Tanggal		Keterangan	Ref	Debet	Kredit	Saldo	
						Debet	Kredit
2009	2	Pembelian	JB.1	-	5.000.000,00	-	5.000.000,00
	22	Pembelian	JB.1	-	6.000.000,00	-	11.000.000,00
	24	Retur Pembelian	JU.1	500.000,00	-	-	10.500.000,00

B. Nama Kreditur: PT CAHAYA

No. : 001

Tanggal	Keterangan	Ref	Debet	Kredit	Saldo
---------	------------	-----	-------	--------	-------

						Debet	Kredit
2009	2	Pembelian	JB.1	-	5.000.000,00	-	5.000.000,00
	22	Pembelian	JB.1	-	6.000.000,00	-	11.000.000,00
	24	Retur Pembelian	JU.1	-	500.000,00	-	11.500.000,00

C. Nama Kreditur: PT CAHAYA

No. : 001

Tanggal		Keterangan	Ref	Debet	Kredit	Saldo	
						Debet	Kredit
2009	2	Pembelian	JB.1	5.000.000,00	-	5.000.000,00	-
	22	Pembelian	JB.1	6.000.000,00	-	11.000.000,00	-
	24	Retur Pembelian	JU.1	-	500.000,00	10.500.000,00	-

D. Nama Kreditur: Toko Gerhana

No. : 002

Tanggal		Keterangan	Ref	Debet	Kredit	Saldo	
						Debet	Kredit
2009	9	Pembelian	JB.1	-	2.000.000,00	-	1.000.000,00
	22	Pembelian	JB.1	-	6.000.000,00	-	8.000.000,00
	24	Retur Pembelian	JU.1	500.000,00	-	-	7.500.000,00

E. Nama Kreditur: Toko Surya

No. : 003

Tanggal		Keterangan	Ref	Debet	Kredit	Saldo	
						Debet	Kredit
2009	2	Pembelian	JB.1	-	1.000.000,00	-	1.000.000,00
	22	Pembelian	JB.1	-	6.000.000,00	-	7.000.000,00
	24	Retur Pembelian	JU.1	500.000,00	-	-	6.500.000,00

Kunci : A

33. Diketahui sebagian neraca saldo UD. Makmur sebagai berikut:

NO. AKUN	NAMA AKUN	Debet	Kredit
103	Persediaan Barang Dagang	Rp 7.000.000,00	-
501	Pembelian	Rp 50.000.000,00	-
502	Beban Angkut Pembelian	Rp 1.000.000,00	-
503	Retur Pembelian	-	Rp 2.500.000,00
504	Potongan Pembelian	-	Rp 1.500.000,00

Pada tanggal 31 Desember 2010 UD Makmur memiliki persediaan barang dagang sebesar Rp 9.000.000,00. Jurnal penyesuaian yang dibuat pada tanggal 31 Desember 2010 dengan pendekatan ikhtisar Laba/Rugi adalah

- A. Ikhtisar Laba/Rugi Rp 7.000.000,00
 Persediaan Barang Dagang Rp 7.000.000,00
- B. Ikhtisar Laba/Rugi Rp 9.000.000,00
 Persediaan Barang Dagang Rp 9.000.000,00
 Persediaan Barang Dagang Rp 7.000.000,00
 Ikhtisar Laba/Rugi Rp 7.000.000,00
- C. Ikhtisar Laba/Rugi Rp 7.000.000,00
 Persediaan Barang Dagang Rp 7.000.000,00
 Persediaan Barang Dagang Rp 9.000.000,00
 Ikhtisar Laba/Rugi Rp 9.000.000,00
- D. Persediaan Barang Dagang Rp 7.000.000,00
 Ikhtisar Laba/Rugi Rp 7.000.000,00
 Ikhtisar Laba/Rugi Rp 2.000.000,00
 Persediaan Barang Dagang Rp 2.000.000,00
- E. Persediaan Barang Dagang Rp 9.000.000,00
 Ikhtisar Laba/Rugi Rp 9.000.000,00

Kunci : C

34. Perhatikan sebagian data kertas kerja sebagai berikut:

No	Nama Akun	NSD		L/R		Neraca	
		D	K	D	K	D	K
1	kas	5000		5000		5000	
2	Persediaan Barang	9000				9000	
3	Modal		12000				12000
4	Penjualan		7000		7000		
5	Pembelian	4500		4500			

Penyelesaian yang benar dari sebagian kertas kerja di atas adalah

- A. 1, 2 dan 3
- B. 1, 3 dan 4
- C. 2, 3 dan 4
- D. 3, 4 dan 5
- E. 4, 5 dan 6

Kunci : C

35. Data Keuangan PD Abadi per 31 Desember 2010

Penjualan Rp 70.000,00

Retur Penjualan Rp 2.000,00

Potongan PenjualanRp 3.000,00

Persediaan awal Rp 12.000,00

Persediaan akhir Rp 15.000,00

Pembelian Rp 10.000,00

Beban angkut penjualan Rp 1.000,00

Beban usaha Rp 4.000,00

Pendapatan di luar usaha Rp 3.500,00

Pajak penghasilan Rp 2.500,00

Besarnya laba bersih setelah pajak adalah

- A. Rp 50.500,00
- B. Rp 51.500,00
- C. Rp 54.000,00
- D. Rp 58.000,00
- E. Rp 60.000,00

Kunci : C

36. Data yang dimiliki UD Makmur sebagai berikut:

Pembelian Rp 30.000,00

Penjualan Rp 60.000,00

Retur Penjualan Rp 5.000,00

Beban Angkut Pembelian Rp 7.000,00

Pendapatan bunga Rp 10.000,00

Jurnal Penutup yang benar adalah

A. Penjualan Rp 60.000,00

Retur Penjualan Rp 5.000,00

Ikhtisar Laba/Rugi Rp 65.000,00

B. Pembelian Rp 30.000,00

Beban angkut pembelia Rp 7.000,00

Ikhtisar Laba/Rugi Rp 37.000,00

C. Ikhtisar Laba/Rugi Rp 70.000,00

Penjualan Rp 60.000,00

Pendapatan bunga Rp 10.000,00

D. Ikhtisar Laba/Rugi Rp 37.000,00

Pembelian Rp 30.000,00

Beban angkut pembelian Rp 7.000,00

E. Ikhtisar Laba/Rugi Rp 40.000,00

Pembelian Rp 30.000,00

Pendapatan bunga Rp 10.000,00

Kunci : D

37. Perusahaan "Batik" Pekalongan memberikan fasilitas mobil dinas serta rekreasi keluarga bagi karyawannya yang memiliki prestasi dan dedikasi kerja yang baik. Hal tersebut merupakan fungsi manajemen...

A. Planning

B. Organizing

C. Actuating

D. Coordinating

E. Controlling

38. Perhatikan cirri-ciri BUMN berikut ini

1. Makna usahanya adalah public service
2. Pegawainya adaalh pegawai perusahaan Negara
3. makna usahanya adalah memupuk keuntungan
4. status hukumnya sebagai badan hokum perdata berbentuk PT
5. pada umumnya bergerak di bidang yang vital/penting
6. dipimpin oleh seorang kepala

Berdasarkan ciri-ciri diatas, yang merupakan ciri persero adalah....

- A. 1 dan 2
- B. 3 dan 4
- C. 2 dan 3
- D. 3 dan 6
- E. 5 dan 6

39. Di bawah ini adalah tugas pengurus koperasi dan rapat anggota koperasi :

1. mengesahkan AD
2. mengelola usaha koperasi
3. menetapkan pembagian SHU
4. menyelenggarakan rapat anggota
5. menetapkan kebijakan umum koperasi

Dari pernyataan diatas termasuk tugas rapat anggota adalah....

- A. 1, 2 dan 3
- B. 1, 3 dan 5
- C. 2,3 dan 4
- D. 2,4 dan 5
- E. 3,4 dan 5

40. Syarat utama menjadi wirausaha adalah....

- A. memiliki modal yang banyak
- B. lulusan perguruan tinggi
- C. mempunyai banyak relasi
- D. berpengalaman mengurus bisnis
- E. pekerja keras, ulet dan berani mengambil resiko