

PAKET A

Pilihlah salah satu jawaban yang paling tepat beri tanda (X)

1. Pemerintah akan memberlakukan peraturan untuk penggunaan BBM dengan ketentuan kendaraan bermotor yang dikeluarkan tahun 2005 keatas harus menggunakan pertamax tujuan kebijakan tersebut adalah
 - A. Menambah subsidi BBM
 - B. Menurunkan penerimaan BBM
 - C. Meningkatkan ekspor minyak
 - D. Menurunkan jumlah produksi premium
 - E. Mengurangi subsidi BBM

2. Menjelang tahun ajaran baru produsen buku meningkatkan jumlah produksi, Kegiatan tersebut menunjukkan adanya upaya pemecahan permasalahan pokok ekonomi modern yaitu....
 - A. Barang apa yang harus diproduksi
 - B. Berapa banyak jumlah yang diproduksi
 - C. Dimana barang akan diproduksi
 - D. Bagaimana cara memproduksi
 - E. Untuk siapa barang diproduksi

3. Pemerataan pendapatan di suatu negara mudah dilaksanakan karena pemerintah mempunyai kewenangan untuk menguasai alat produksi, distribusi dan konsumsi, sedangkan masyarakat berperan sebagai pelaksana kebijakan pemerintah. Gambaran diatas menunjukkan negara tersebut menganut system ekonomi....
 - A. Kapitalis
 - B. Komando
 - C. Liberalisme
 - D. Tradisional
 - E. Campuran

4. Perhatikan tabel dibawah ini

Tenaga kerja	Total produksi	Marginal produksi
1	10
2	20
3	32
4	37
5	35

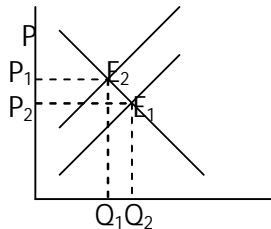
Dari tabel diatas , hukum The Law Of Diminishing Return mulai berlaku pada saat tenaga kerja....

- A. 1
- B. 2
- C. 3
- D. 4
- E. 5

5. Pengusaha garmen memerlukan bahan baku berupa kain dan perlengkapan lainnya sebagai kebutuhan pokok. Jika Tarif Dasar listrik mahal maka tindakan perusahaan
- Menutup usahanya selama tarif dasarlistrik mahal
 - Tetap menggunakan listrik sekalipun listrik mahal
 - Menggunakan genset dengan bahan bakar solar
 - Menggunakan mesin jahit manual
 - Mempertimbangkan penghematan dalam melakukan proses produksi
6. Fungsi Permintaan $Q_d = -5P + 1700$ harga maksimal terjadi pada harga....
- 8500
 - 1700
 - 340
 - 300
 - 5
7. Negara "B" memiliki data pendapatan nasional sebagai berikut:
- | | |
|------------------------------|----------------|
| - Pendapatan nasional bersih | Rp. 100 milyar |
| - Transfer payment | Rp. 5 milyar |
| - Pajak Tidak Langsung | Rp. 5 milyar |
| - Asuransi | Rp. 2 milyar |
| - Laba ditahan | Rp. 2 milyar |
| - Iuran jaminan social | Rp. 1 milyar |
| - Pajak perseroan | Rp. 1 milyar |
- Maka besarnya personal income
- Rp. 116 milyar
 - Rp. 111 milyar
 - Rp. 104 milyar
 - Rp. 99 milyar
 - Rp. 89 milyar
8. Perhatikan kebijakan yang dibuat oleh Bank Indonesia
- Meningkatkan suku bunga SBI dari 6% menjadi 8,5%
 - Menurunkan Cash Ratio Bank
 - Menjual Sertifikan Bank Indonesia
 - Mengawasi perbankan
 - Menjaga stabilitas nilai rupiah
- Berdasarkan data diatas kebijakan moneter yang dapat mengurangi jumlah uang beredar adalah....
- 1 dan 2
 - 1 dan 3
 - 2 dan 3
 - 2 dan 4
 - 4 dan 5
9. Fungsi tabungan $S = -95.000 + 0,25 Y$ Jika besarnya konsumsi Rp.780.000,00 maka besarnya tabungan....
- Rp. 680.000
 - Rp. 380.000
 - Rp.195.000

- D. Rp. 100.000
 - E. Rp. 95.000
10. Harga payung pada musim hujan Rp 20.000 jumlah permintaan 20 ribu unit, ketika musim berganti kemarau harga payung tetap tetapi permintaan menurun menjadi 15 ribu unit, maka elastisitas permintaan....
- A. Elastis
 - B. In elastis
 - C. Uniter
 - D. Elastis sempurna
 - E. In elastis sempurna

11. Perhatikan kurve dibawah ini



- Kurve diatas menunjukkan jumlah uang beredar meningkat disebabkan oleh....
- A. Kelebihan permintaan efektif
 - B. Kenaikan biaya produksi
 - C. Kenaikan jumlah uang beredar
 - D. Kenaikan upah/gaji
 - E. Pengaruh kenaikan harga barang impor
12. Pak Apit menjual rumah dan tanahnya di Purworejo Rp.250.000.000,00 kemudian uang hasil penjualannya dibelikan sebuah Kijang Inova di Jakarta. Berdasarkan pernyataan tersebut maka uang mempunyai fungsi sebagai alat....
- A. Pemindah kekayaan
 - B. Satuan Hitung
 - C. Penimbun kekayaan
 - D. Tukar menukar
 - E. Pembayaran yang sah
13. Penjualan telepon seluler di Indonesia didominasi oleh merk Nokia, Sonny Ericson dan Samsung, padahal banyak merk lain di pasaran. Kondisi pasar seperti ini disebut....
- A. Monopoli
 - B. Oligopoli
 - C. Monopolistik
 - D. Monopsoni
 - E. Duopoli
14. Berikut ini karakteristik pasar
1. Yang diperdagangkan adalah SBI dan SUN
 2. Yang diperdagangkan saham dan obligasi
 3. Tempat bertemunya permintaan dan penawaran dana jangka panjang

4. Jangka waktu kurang dari satu tahun
5. Transaksi dilakukan di bursa efek

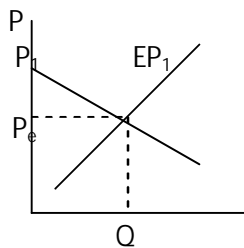
Yang merupakan karakteristik pasar modal adalah....

- A. 1, 2 dan 3
- B. 1, 3 dan 4
- C. 2, 3 dan 5
- D. 2, 4 dan 5
- E. 3, 4 dan 5

15. Fungsi permintaan suatu barang $P_d = 12 - 2Q$ dan fungsi penawaran $P_s = 3 + 2Q$ Jika pemerintah memberikan subsidi sebesar Rp.1/unit maka jumlah dan harga keseimbangan setelah subsidi adalah....

- A. (2,5 ; 7)
- B. (-2,5 ; -7)
- C. (2,5 ; -5)
- D. (-2,5 ; 5)
- E. (3 ; 5)

16. Perhatikan kurve dibawah ini



Harga keseimbangan pada grafik di atas adalah P_e jika ada konsumen mampu membeli pada P_1 maka konsumen tersebut termasuk kategori....

- A. Konsumen marginal
- B. Konsumen super marginal
- C. Konsumen sub marginal
- D. Produsen sub marginal
- E. Produsen super marginal

17. Index Harga konsumen bulan Januari 2005 adalah 156 dan bulan Februari 2005 adalah 160, maka tingkat inflasi bulan Februari tahun 2005 adalah....

- A. 0,256%
- B. 25,6%
- C. 26,5%
- D. 2,65%
- E. 2,56%

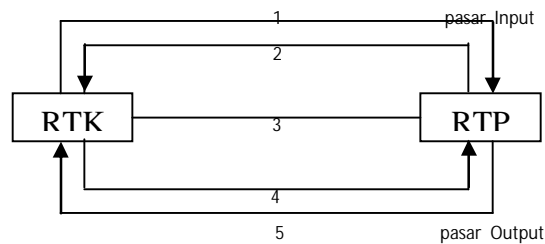
18. Diketahui suatu negara mempunyai data dalam satu tahun sebagai berikut :

❖ Jumlah konsumsi	Rp. 200.000
❖ Jumlah investasi	Rp. 150.000
❖ Jumlah pengeluaran pemerintah	Rp. 165.000
❖ Jumlah ekspor	Rp. 185.000
❖ Jumlah impor	Rp. 50.000

- ❖ Jumlah penyusutan Rp. 100.000
- Dari data diatas besarnya pendapatan nasional dengan pendekatan pengeluaran adalah.....
- A. Rp. 557.000
 - B. Rp. 600.000
 - C. Rp. 625.000
 - D. Rp. 650.000
 - E. Rp. 710.000

19. Ibu Syamsiah akan mendirikan usaha salon memerlukan modal tambahan. Untuk itu beliau pergi ke BNI untuk memperoleh kredit investasi. Tujuan penggunaan kredit investasi adalah....
- A. Membeli bahan baku
 - B. Ditabung kembali di bank
 - C. Dipinjamkan ke perusahaan lain
 - D. Keperluan perluasan usaha
 - E. Membiayai kegiatan rutin perusahaan

20. Perhatikan gambar dibawah ini



Berdasarkan alur pada gambar diatas yang merupakan arus pendapatan bagi Rumah Tangga konsumen adalah....

- A. 1
 - B. 2
 - C. 3
 - D. 4
 - E. 5
21. Salah satu faktor penghambat pembangunan di Indonesia adalah rendahnya kualitas SDM, untuk mengatasi masalah tersebut dapat dilakukan cara berikut....
- A. Pelatihan kerja, pemagangan,perbaiki gizi dan kesehatan
 - B. Bursa kerja, mobilitas tenaga kerja, pemagangan dan pendidikan
 - C. Pendidikan dan pelatihan, mobilitas tenaga, peningkatan jumlah produksi
 - D. Perbaikan gizi dan kesehatan, bursa tenaga kerja dan peningkatan investasi
 - E. Latihan kerja, peningkatan investasi, pertumbuhan dan kesejahteraan
22. Perubahan struktur ekonomi masyarakat dari pertanian menjadi industri menimbulkan masalah pengangguran,. Hal ini disebabkan banyak masyarakat yang belum masuk dunia industri. Cara mengatasi pengangguran ini adalah
- A. Membuka proyek padat karya dan padat modal
 - B. Memberi pinjaman dan fasilitas untuk berwirausaha
 - C. Memberikan informasi yang jelas akan lowongan kerja yang tersedia
 - D. Meningkatkan daya beli masyarakat

E. Meningkatkan mobilitas tenaga kerja dan modal serta memberi pelatihan

23. Dibawah ini ciri-ciri pembangunan dan pertumbuhan ekonomi:

1. mengalami perstruktur ekonomi
2. meningkatnya pendapatan per capita
3. pemanfaatan sumber daya produktif secara efektif dan efisien
4. peningkatan GNP
5. Pengembangan ilmu pengetahuan dan teknologi

Yang merupakan ciri-ciri pertumbuhan ekonomi adalah....

- A. 1, 2 dan 3
- B. 1, 3 dan 5
- C. 2, 3 dan 4
- D. 2, 4 dan 5
- E. 3, 4 dan 5

24. dibawah ini pernyataan tentang APBD dan APBN

1. APBN dirancang oleh pemerintah dan disahkan oleh DPR
2. Tahun anggaran APBD dan APBN mulai bulan Maret dan berakhir pada bulan April
3. APBD disusun oleh pemerintah daerah dan disahkan oleh DPRD
4. Jika RAPBN tidak disetujui oleh DPR maka yang dipergunakan APBN tahun sebelumnya
5. Retribusi merupakan sumber pendapatan dalam APBN

Pernyataan diatas yang benar tentang APBN adalah....

- A. 1 dan 3
- B. 1 dan 4
- C. 2 dan 3
- D. 3 dan 5
- E. 4 dan 5

25. PT Nina pada akhir tahun 2009 memperoleh laba bersih sebesar Rp. 350.000.000,00, berdasarkan UU PPh NO 17/2000 besarnya tarif pajak untuk badan usaha sebagai berikut:

Penghasilan kena pajak	Tarif pajak
Sampai dengan Rp. 50.000.000,00	10%
Rp.50.000.000,00 s.d 100.000.000,00	15%
Diatas Rp 100.000.000,00	30%

Berdasarkan data diatas maka besarnya pajak terutang adalah....

- A. Rp. 105.000.000,00
- B. Rp. 87.500.000,00
- C. Rp. 70.500.000,00
- D. Rp. 70.000.000,00
- E. Rp. 60.500.000,00

26. Pak Yoni pada tanggal 12 Agustus 2008 membeli 100 lot saham PT Telkom dengan harga @ Rp 12.500,00 perlembar. Tanggal 12 September harga PT Telkom naik menjadi Rp. 15.000,00. Jika pada tanggal tersebut pak Yoni menjual sahamnya maka ia mendapat....

- A. capital gain
- B. capital loss
- C. kupon
- D. bunga

- E. deviden
27. Jepang dalam politik perdagangan internasional menggunakan politik dumping, yaitu dilakukan dengan cara....
- A. Membeli barang yang sama dari negara lain lebih murah dibandingkan harga dalam negeri
 - B. Membeli barang yang sama dari negara lain lebih mahal dibanding harga di dalam negeri
 - C. Menjual barang yang sama ke negara lain harganya sama dengan harga dalam negeri
 - D. Menjual barang yang sama ke negara lain lebih murah dibandingkan harga di dalam negeri
 - E. Menjual barang yang sama ke negara lain lebih mahal dibandingkan harga di dalam negeri
28. Sistem kurs valuta asing di Indonesia menggunakan sistem mengambang, yang menentukan besar kecilnya nilai kurs adalah....
- A. Ditetapkan oleh pemerintah
 - B. Distabilkan oleh lembaga keuangan
 - C. Ditentukan oleh mekanisme pasar
 - D. Ditetapkan oleh Bank Indonesia
 - E. Tergantung dari devisa negara
29. Pengiriman uang dari TKI yang berada di luar negeri menyebabkan posisi neraca pembayaran berubah. Perubahan tersebut disebabkan oleh....
- A. Neraca barang bertambah
 - B. Neraca modal bertambah
 - C. Neraca modal berkurang
 - D. Neraca Jasa berkurang
 - E. Neraca jasa bertambah
30. Dari hasil penerimaan pajak pemerintah menggunakan untuk Bantuan Langsung Tunai, subsidi BBM dengan tujuan pemerataan pendapatan. Dalam hal ini APBN berfungsi sebagai....
- A. Distribusi
 - B. Perencanaan
 - C. Stabilisasi
 - D. Alokasi
 - E. Otoritas
31. Perhatikan transaksi-transaksi berikut:
- 5/6 Nina menyisihkan kekayaannya berupa uang Rp 5.000.000,00 sebagai modal "Nina Decoration"
 - 6/6 Dibeli peralatan dekorasi Rp 8.000.000,00 dibayar tunai Rp 4.000.000,00 sisanya diangsur 4 kali ke depan
 - 7/6 Dibeli bahan perlengkapan dekorasi Rp 500.000,00 tunai
 - 8/6 Dibayar transpor ke lokasi Rp 50.000,00
 - 10/6 Diterima pendapatan jasa dekorasi Rp 500.000,00
- Penerapan dalam persamaan akuntansinya sebagai berikut

Tgl	Harta			Utang	Moda	
	Kas	Piutang usaha	Perlengkapan	Peralatan	Utang usaha	Modal Nina
5/6	5.000.000	-	-	-	-	5.000.000
6/6	(4.000.000)	-	-	8.000.000	-	4.000.000
7/6	1.000.000	-	-	8.000.000	-	9.000.000
	-	-	500.000	-	500.000	-
8/6	1.000.000	-	500.000	8.000.000	500.000	9.000.000
	(50.000)	-	-	-	-	(50.000)
10/6	950.000	-	500.000	8.000.000	500.000	8.950.000
	-	500.000	-	-	-	500.000
	950.000	500.000	500.000	8.000.000-	500.000	9.450.000

Penerapan yang benar adalah untuk transaksi tanggal ...

- A. 5/6 dan 6/6
- B. 5/6 dan 8/6
- C. 6/6 dan 7/6
- D. 6/6 dan 8/6
- E. 8/6 dan 10/6

32. Perhatikan bukti berikut ini:

TOKO MEUBEL JEPARA		Tanggal, 15 Mei 2005	
FAKTUR No: 141		Kepada	
		Yth. Biro Jasa Amanah Di Semarang	
Banyak	Nama barang	Harga satuan	Total
1 set	Meja kantor	Rp2.500.000	Rp2.500.000
<i>Meubel JEPARA</i>			

Bukti transaksi di atas oleh Biro Jasa Amanah dicatat dalam jurnal umum yang benar adalah ...

- A. Persediaan barang Rp 2.500.000,00
Utang usaha - Rp2.500.000,00
- B. Piutang Rp 2.500.000,00
Penjualan - Rp 2.500.000,00
- C. Perlengkapan ktr Rp 2.500.000,00
Utang usaha - Rp 2.500.000,00
- D. Pembelian Rp 2.500.000,00
Utang usaha - Rp 2.500.000,00
- E. Peralatan kantor Rp 2.500.000,00
Utang usaha - Rp 2.500.000,00

33. Perhatikan tabel dibawah ini

Neraca Saldo Biro iklan "Smile"
(dalam ribuan rupiah)

No.	Nama Rekening	Debit	Kredit
111	Kas	1.500	-
112	Asuransi dibayar di muka	500	-
114	Perlengkapan	700	-
121	Peralatan	20.000	-

Data penyesuaian per 31 Desember 2005.

- Perlengkapan terpakai Rp 400.000,00
- Penyusutan peralatan 10%
- Asuransi yang telah jatuh tempo senilai Rp 150.000,00

Jurnal penyesuaian yang benar adalah ...

A. Beban perlengkapan	Rp 300.000,00	
Perlengkapan		Rp 300.000,00
B. Beban perlengkapan	Rp 400.000,00	
Perlengkapan		Rp 400.000,00
C. Beban penyusutan peralatan	Rp 2.000,00	
Akumulasi penyusutan peralatan		Rp 2.000,00
D. Beban asuransi	Rp 350.000,00	
Asuransi dibayar di muka		Rp 350.000,00
E. Asuransi dibayar di muk a	Rp 150.000,00	
Beban asuransi		Rp 150.000,00

34. Tanggal 16 Januari 2005 bengkel "Sekar Artha" menerima hasil jasanya dari seorang pelanggannya sebesar Rp 1.800.000,00, tetapi baru diterima secara tunai Rp 1.400.000,00. Sisanya diterima kemudian. Dari transaksi tersebut dapat dicatat pada persamaan akuntansi adaiah ...

A.	Harta			= kewajiban	+ ekuitas
	Kas	+ piutang usaha	+ perlengkapan	= utang usaha	+ ekuitas
	Rp 1.800000,00	-	-	= -	Rp 1.800.000,00
B.	Harta			= kewajiban	+ ekuitas
	Kas	+ piutangusaha	+ perlengkapan	= utang usaha	+ ekuitas
	Rp 1.800000,00	-	-	= Rp 400.000,00	Rp 1.400.000,00
C.	Harta			= kewajiban	+ ekuitas
	Kas	+ piutangusaha	+ perlengkapan	= utang usaha	+ ekuitas
	Rp 1.400000,00	-	-	= -	Rp 1.400.000,00
D.	Harta			= kewajiban	+ ekuitas
	Kas	+ piutang usaha	+ perlengkapan	= utang usaha	+ ekuitas
	Rp 1.400000,00	+ Rp 400.000,00	-	= -	Rp 1.800.000,00
E.	Harta			= kewajiban	+ ekuitas
	Kas	+ piutang usaha	+ perlengkapan	= utang usaha	+ ekuitas
	Rp 1.400000,00	+ Rp 400.000,00	-	= Rp 1.800.000,00	

35. Neraca saldo telah disesuaikan UD "Syam" per 31 Desember 2009.

No.	AKUN	DEBET	KREDIT
111	Kas	Rp 890.000,00	-
112	Piutang Usaha	Rp 5.200.000,00	-
113	Perlengkapan	Rp 750.000,00	-
121	Peralatan	Rp 20.000.000,00	-
121.1	Akumulasi penyusutan peralatan	-	Rp 3.125.000,00
211	Utang Usaha	-	Rp 4.260.000,00
212	Utang gaji	-	Rp 770.000,00
311	Modal	-	Rp 15.735.000,00
311.1	Prive	Rp 1.250.000,00	-
411	Pendapatan jasa	-	Rp 14.100.000,00
412	Pendapatan bunga	-	Rp 2.350.000,00
511	Beban gaji	Rp 4.650.000,00	-
512	Beban Listrik dan telepon	Rp 6.450.000,00	-
513	Beban serba serbi	Rp 1.150.000,00	-
		Rp. 40.340.000,00	Rp 40.340.000,00

Dari data di atas modal akhir UD "Syam" sebesar ...

- A. Rp 15.737.000,00
- B. Rp 16.335.000,00
- C. Rp 17.585.000,00
- D. Rp 18.685.000,00
- E. Rp 18.835.000,00

36. Perhatikan table dibawah ini

Neraca saldo (sebagian) perusahaan service "KILAT" adalah:

No.	Nama perkiraan	D	K
411	Pendapatan service		2.000.000
511	Beban gaji	400.000	
512	Beban listrik	100.000	

Jurnal penutup untuk perkiraan beban adalah ...

- A. Modal Rp 500.000,00
 Beban gaji Rp 400.000,00
 Beban listrik Rp 100.000,00
- B. Beban gaji Rp 400.000,00
 Beban listrik Rp 100.000,00
 Modal Rp 500.000,00
- C. Beban gaji Rp 400.000,00
 Beban listrik Rp 100.000,00
 Kas Rp 500.000,00
- D. Beban gaji Rp 400.000,00
 Beban listrik Rp 100.000,00
 Ikhtisar R/L Rp 500.000,00
- E. Ikhtisar R/L Rp 500.000,00
 Beban gaji Rp 400.000,00
 Beban listrik Rp 100.000,00

37. Berikut sebagian data suatu perusahaan jasa:

Pendapatan jasa	Rp 1.500.000,00
Pendapatan lain-lain	Rp 400.000,00

Beban gaji	Rp 600.000,00
Beban listrik	Rp 50.000,00
Beban lain-lain	Rp 50.000,00
Modal	Rp 1.100.000,00

Berdasarkan data di atas besarnya laba perusahaan adalah ...

- A. Rp 800.000,00
- B. Rp 850.000,00
- C. Rp 900.000,00
- D. Rp 1.100.000,00
- E. Rp 1.200.000,00

38. Perhatikan kertas kerja dibawah ini

Perusahaan Angkutan " Ruby Jaya"
Kertas kerja
Yang berakhir 31 Desember 2009

No	Nama rekening	N.S disesuaikan		Rugi/laba		Neraca	
		D	K	D	K	D	K
1	Beban sewa	10.000	-	10.000	-	-	-
2	Sewa diterima di muka	-	40.000	-	40.000	-	-
3	Pendapatan bunga	-	15.000	-	15.000	-	-
4	Gaji y.mh dibayar	-	25.000	-	-	-	25.000
5	Beban pet. alat	50.000	-	-	-	50.000	-

Penyelesaian rekening yang benar dari neraca lajur (kertas kerja) tersebut adalah ...

- A. 1, 2, dan 3
- B. 1, 3, dan 4
- C. 2, 3, dan 4
- D. 2, 3, dan 5
- E. 2, 4, dan 5

39 Perhatikan jurnal dibawah ini

Tanggal	Akun / Keterangan	Ref	D	K
1 Sep 08	Kas		Rp1.000.000,00	-
	Pendapatan sewa		-	Rp1.000.000,00
2 Sep 08	Beban Sewa		Rp500.000,00	-
	Kas		-	Rp500.000,00
3 Sep 08	Perlengkapan		Rp900.000,00	-
	Kas		-	Rp400.000,00
	Utang usaha		-	Rp500.000,00

Berdasarkan data di atas, maka posting ke buku besar yang benar adalah....

A. Kas

Tanggal	Keterangan	Ref	Debet	kredit	Saldo	
					Debet	Kredit
1/9/08			Rp1.000.000,00	-	Rp1.000.000,00	-
2/9/08			-	Rp500.000,00	Rp500.000,00	-
3/9/08			-	Rp400.000,00	Rp900.000	-

B. Kas

Tanggal	Keterangan	Ref	Debet	kredit	Saldo	
					Debet	Kredit
1/9/08			Rp1.000.000,00	-	Rp1.000.000,00	-
2/9/08			-	Rp500.000,00	Rp1.500.000,00	-
3/9/08			-	Rp400.000,00	Rp1.900.000,00	-

C. Utang Usaha

Tanggal	Keterangan	Ref	Debet	kredit	Saldo	
					Debet	Kredit
3/9/08			Rp500.000,00	-	Rp500.000,00	-

D. Utang Usaha

Tanggal	Keterangan	Ref	Debet	kredit	Saldo	
					Debet	Kredit
3/9/08			-	Rp500.000,00	-	Rp500.000,00

E. Pendapatan Sewa

Tanggal	Keterangan	Ref	Debet	kredit	Saldo	
					Debet	Kredit
1/9/08			Rp500.000,00	-	Rp500.000,00	-

40. Berikut ini matrik aktiva lancar, utang lancar, aktiva tetap, beban dan pendapatan

No	A	B	C
1.	Kas	Utang usaha	Beban penyusutan gedung
2.	Pendapatan service	Piutang usaha	Akumulasi penyusutan gedung
3.	Peralatan kantor	Beban gaji	Perlengkapan kantor
4.	Uang gaji	Gedung	Utang wesel

Yang termasuk kelompok akun nominal ...

- A. A₁, B₂, dan C₁
- B. A₂, B₃, dan C₂
- C. A₂, B₃, dan C₁
- D. A₃, B₄, dan C₃
- E. A₄, B₃, dan C₄

Kerjakan dengan teliti