

**Pilihlah salah satu jawaban yang benar dengan memberikan tanda silang pada lembar jawaban!**

1. Pengorbanan yang dilakukan karena dipilihnya suatu alternatif kebutuhan tertentu diantara berbagai alternatif pilihan, dalam teori ekonomi disebut....
  - a. *the cost of doctrin alternative*
  - b. *the cost of marketing alternative*
  - c. *the cost of production alternative*
  - d. *the opportunity cost*
  - e. *the cost of choice alternative*
  
2. "Doing analysis to the consumers who will used the products". The needed for producers to overcome the economics problem is....
  - a. what
  - b. who
  - c. where
  - d. how
  - e. for whom

3. Look at this table:

Land ( ha )	Labour	Total Product
0,1	0	-
0,1	1	10
0,1	2	24
0,1	3	39
0,1	4	52
0,1	5	60
0,1	6	63
0,1	7	63
0,1	8	56

Based on the table, the optimal product from labour done is ... .

- a. 2
  - b. 3
  - c. 4
  - d. 5
  - e. 6
- 
4. When "Lancer" Notebook's price Rp 5.000.000,00/unit, the demand's 80 unit. Notebook's price is up to 10%, and causing the demand decreased to 60 unit. Based on that data, the demand's function is showed by....
    - a.  $Q = -4 P + 1200$
    - b.  $Q = 4P - 1200$
    - c.  $Q = -4P + 280$
    - d.  $Q = 4P - 280$
    - e.  $5Q = -20 P + 600$

5. Diketahui data harga sembako di Jakarta:

Jenis Barang	Tahun	
	2006	2007
1. Gula	Rp 5.000,00	Rp 7.000,00
2. Telur	Rp 9.000,00	Rp 10.000,00
3. Terigu	Rp 4.500,00	Rp 7.000,00

Berdasarkan data di atas, dengan tahun 2006 sebagai tahun dasar, maka laju inflasi sembako tahun 2007 di Jakarta sebesar ....

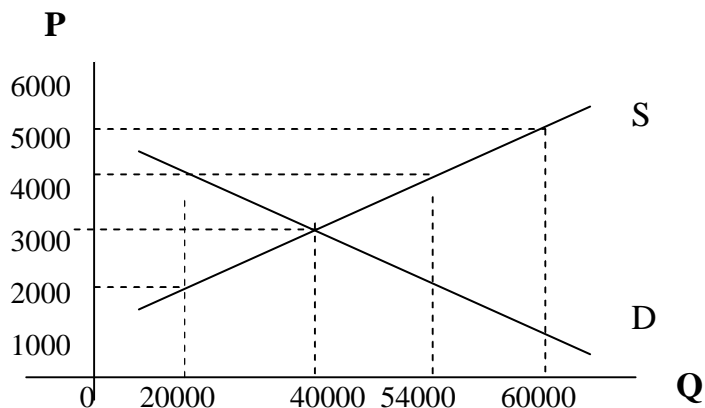
- 55,55%
  - 40%
  - 35,51%
  - 29,73%
  - 29%
6. Sebelum bekerja pengeluaran Daniel sebesar Rp 1.500.000,00 sebulan. Setelah bekerja dengan penghasilan sebesar Rp 5.000.000,00 pengeluarannya sebesar Rp 4.500.000,00  
Fungsi konsumsi Daniel dapat dinyatakan sebagai....
- $C = 1.500.000 + 0,6 Y$
  - $C = 3.500.000 + 0,6 Y$
  - $C = 1.500.000 + 0,4 Y$
  - $C = - 1.500.000 + 0,4 Y$
  - $C = -3.500.000 + 0,6 Y$
7. If *dissaving* happens, it means....
- the consumption's curve is  $45^0$  under line
  - the consumption's curve and the  $45^0$  line is cutting each other in a straight line
  - the consumption's curve and the  $45^0$  line is cutting each other
  - the consumption's curve is  $45^0$  above the line
  - the consumption's curve is pressed on  $45^0$  line
8. Hal hal berikut ini berkaitan dengan Bank Sentral:
- Memelihara kestabilan nilai uang
  - Mencetak dan mengeluarkan uang kertas
  - Mengawasi kegiatan Bank Umum
  - Memberikan kredit jangka pendek dan jangka panjang

Yang merupakan tugas pokok Bank Sentral yaitu butir ....

- 1, 2, dan 3
  - 2, 3, dan 4
  - 1, 2, dan 4
  - 1, 3, dan 4
  - 2 dan 4
9. The Central Bank is doing selling and buying precious letters in capital market. Those things are to stabilized the money and goods streams in economical. This Central Bank's policy is often called....
- the selective credit policy

- b. the open market politics
  - c. the Cash Ratio politics
  - d. the discount politics
  - e. sanering
10. Kurva permintaan yang dihadapi perusahaan dalam pasar oligopoli ....
- a. sangat elastis
  - b. sangat inelastis
  - c. bagian atas inelastis, bagian bawah elastis
  - d. bagian atas elastis, bagian bawah inelastis
  - e. sama dengan kurva permintaan pasar
11. Which is not the characteristic of the perfect competition market....
- a. easy entering into the industry
  - b. effecting on each company
  - c. large numbers of companies
  - d. produced the same goods
  - e. the price is fixed by the market
12. Pernyataan berikut ini adalah benar berkaitan dengan pasar monopoli, yaitu....
- a. kurva permintaan yang dihadapi monopolis adalah kurva permintaan pasar
  - b. monopolis tidak akan menderita rugi karena merupakan satu-satunya perusahaan dalam industri
  - c. monopolis akan memperoleh laba maksimum kalau berproduksi pada saat penerimaan totalnya (TR) maksimum
  - d. monopolis akan memperoleh laba maksimum kalau berproduksi pada saat biaya rata-ratanya ( AC ) minimum
  - e. agar labanya maksimum, monopolis berproduksi pada saat  $P = MR = MC$
13. Macam biaya berikut ini tidak mengalami kenaikan bila jumlah output yang diproduksi ditambah, yaitu....
- a. *marginal cost*
  - b. *average cost*
  - c. *average variable cost*
  - d. *average fixed cost*
  - e. *variable cost*
14. The producers balance is reached when....
- a. the demand's curve is cutting the supply curve
  - b. the isocost's curve is cutting the isoquant's curve
  - c. the isocost's curve is touching the isoquant's curve
  - d. the indeferention's curve is cutting the budget's line
  - e. the production passibility's curve is reaching maximum
15. Mobil mempunyai permintaan yang ....
- a. inelastis, harga naik 10% permintaannya berkurang lebih besar dari 10%
  - b. inelastis, harga turun 10% permintaannya bertambah lebih kecil dari 10%
  - c. elastis, harga naik 10% permintaannya bertambah lebih besar dari 10%
  - d. elastis, harga turun 10% permintaannya bertambah lebih besar dari 10%

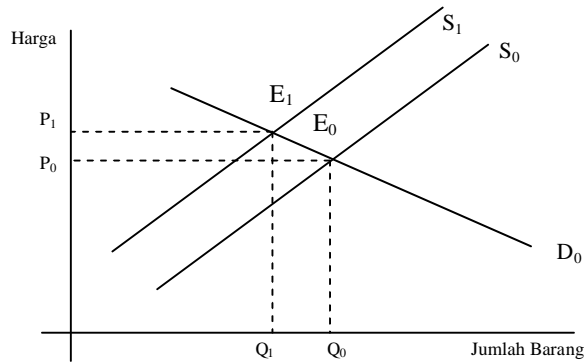
- e. elastis, harga naik Rp 10 juta, permintaannya berkurang lebih besar dari 10 unit
16. Perpindahan penduduk dari berbagai daerah ke kota-kota besar memengaruhi permintaan terhadap barang dan jasa di kota-kota besar tersebut. Pengaruh permintaan terhadap barang dan jasa tersebut merupakan satu faktor permintaan berikut ini, yaitu....
- jumlah pendapatan masyarakat yang meningkat
  - karakteristik penduduk di perkotaan yang berubah
  - perubahan selera masyarakat, khususnya di perkotaan
  - kondisi sosial ekonomi masyarakat yang semakin meningkat
  - harga barang komplementer yang relatif sama
17. If the producers predicted that the economical situations in a year later will be better, then at this moment they will produced more goods and services to sell. This means the factor that effecting supply is....
- the production's tools supply
  - the producers expectations
  - the technology's improvement
  - the goods and services's price
  - the number of producers is increasing
18. Perhatikan grafik berikut!



- Berdasarkan grafik di atas, pada saat harga Rp3.000,00 jumlah permintaan 40.000 unit. Jika harga berubah menjadi Rp4.000,00 jumlah barang yang diminta adalah ....
- bertambah 10.000 unit
  - berkurang 10.000 unit
  - berkurang 20.000 unit
  - bertambah 20.000 unit
  - bertambah 14.000 unit
19. Pembeli yang tidak dapat melakukan pertukaran di pasar sampai harga barang turun adalah jenis pembelian....
- efektif
  - absurd
  - super marginal
  - marginal

e. sub marginal

20.



Penawaran (S) bergeser dari  $S_0$  ke  $S_1$ , harga naik dari  $P_0$  ke  $P_1$  dan produksi menurun dari  $Q_0$  menjadi  $Q_1$ . Kenaikan harga ini disebabkan oleh ....

- perkembangan teknologi
  - bertambahnya penawaran
  - kelebihan permintaan
  - kenaikan biaya produksi
  - peningkatan kualitas
21. Pada saat harga Rp5.000,00 per unit, jumlah barang yang ditawarkan 20 unit. Kemudian harga turun menjadi Rp4.500,00 per unit, jumlah barang yang ditawarkan menjadi 10 unit. Berdasarkan data di atas, besarnya koefisien elastisitas penawaran adalah ....
- 6,0
  - 5,0
  - 2,0
  - 0,5
  - 0,2
22. Below these are the factors that effecting on the market price of production's factor:
- number of products that produced
  - number of labour force
  - industry's growth
  - land's location
- The true factor that effecting on the market price of production's factor is showed by the number....
- 1 and 2
  - 1 and 3
  - 1 and 4
  - 2 and 3
  - 2 and 4
23. Di bawah ini data yang diperlukan dalam perhitungan pendapatan nasional:
- Upah = Rp 12.000.000,00  
Laba = Rp 9.000.000,00  
Pengeluaran pemerintah = Rp 10.000.000,00

Pendapatan bunga = Rp 6.000.000,00  
 Pendapatan sewa = Rp 8.000.000,00  
 Pengeluaran rumah tangga swasta = Rp 36.000.000,00  
 Impor = Rp 5.000.000,00  
 Konsumsi = Rp 25.000.000,00  
 Ekspor = Rp 7.000.000,00

Berdasarkan data di atas, besarnya pendapatan nasional dengan menggunakan metode pengeluaran adalah....

- Rp 35.000.000,00
- Rp 69.000.000,00
- Rp 73.000.000,00
- Rp 104.000.000,00
- Rp 108.000.000,00

24. Below these are the government economical's policy:

- decreasing the tax
- increasing the interest's rate
- selling the precious letters
- increasing the government's spends
- giving selective credits

The government's policy that's mean to overcome the inflations is showed by the number....

- 1, 2, and 3
- 1, 4, and 5
- 2, 3, and 4
- 2, 3, and 5
- 3, 4, and 5

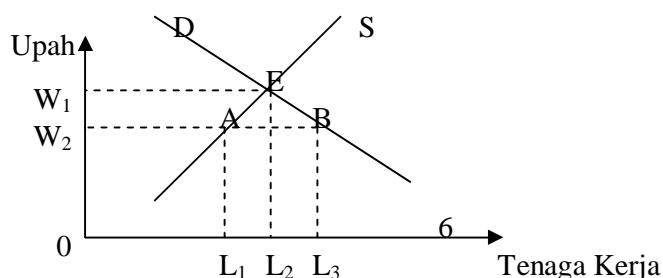
25. Konsumsi masyarakat suatu negara ditunjukkan oleh persamaan  $C = 30 + 0,8Y$ . Bila tabungan sebesar Rp 20,00 maka konsumsi sebesar....

- Rp 290,00
- Rp 270,00
- Rp 250,00
- Rp 230,00
- Rp 220,00

26. To make the abundant labor in Indonesia become an effective power in development, is needed....

- the professionals from abroad
- make the curriculum connected with the work's chance
- make the courses and educations for the labor
- make the courses that suitable with the conditions and work fields
- send the labor to have practices abroad

27. Kurva pasar tenaga kerja:



Kurva pasar tenaga kerja di atas menunjukkan pada saat upah turun dari  $W_1$  ke  $W_2$ , maka akan terjadi....

- a. permintaan dan penawaran tenaga kerja tidak terpengaruh
- b. kekurangan/penurunan permintaan tenaga kerja
- c. penambahan penawaran tenaga kerja
- d. kelebihan penawaran tenaga kerja
- e. kelebihan permintaan tenaga kerja

28. In 2008, the X country has an increasing in produced goods and services. Meanwhile the Y country in the same year has an improvement in poor society's prosperity.

From the statements above, we can conclude that....

- a. the X country has changes, while the Y country has growth
- b. the X country has growth, while the Y country has changes
- c. the X country and the Y country has development
- d. the X country and the Y country has growth
- e. the X country and the Y country hasn't growth or development

29. Ciri-ciri umum pertumbuhan ekonomi dan pembangunan ekonomi, antara lain:

- 1) Terjadinya peningkatan GNP dan pendapatan per kapita dari tahun ke tahun
- 2) Peningkatan GNP dan pendapatan per kapita disertai pemerataan
- 3) Mengalami perubahan struktur ekonomi
- 4) Ditemukan sumber-sumber produktif dan dapat didayagunakan dengan baik
- 5) Adanya inovasi dan penguasaan teknologi baru serta pengembangan ilmu pengetahuan dan teknologi

Yang termasuk ciri-ciri pembangunan ekonomi adalah ....

- a. 1, 2, dan 3
- b. 1, 2, dan 4
- c. 1, 3, dan 5
- d. 2, 3, dan 4
- e. 2, 3, dan 5

30. In tax collecting, we must consider the effectivity and efficiency, it means that considering to make the tax collect's cost is not more than the tax collect's result. That statement is suitable with the principal of....

- a. equality
- b. certainty
- c. economics
- d. suitable
- e. law certainty

31. Pak Bambang memiliki sebidang tanah seluas  $250 \text{ m}^2$ , di atasnya dibangun rumah seluas  $90 \text{ m}^2$ . Taksiran harga jual tanah per  $\text{m}^2$  Rp 50.000,00, sedangkan taksiran jual bangunan per  $\text{m}^2$  Rp 100.000,00. Apabila menggunakan peraturan:

- $(0,5\% \times 20\% \text{ NJOP})$  untuk bumi
- BTKP sebesar Rp 8.000.000,00, maka besarnya PBB yang harus dibayar Pak Bambang adalah ....

- a. Rp 12.500,00
  - b. Rp 13.500,00
  - c. Rp 16.500,00
  - d. Rp 21.500,00
  - e. Rp 27.000,00
32. Hadi bekerja pada perusahaan asing dengan penghasilan kena pajak Rp300.000.000,00 setahun. Berdasarkan (Pasal 7, UU No. 17 tahun 2000), pajak terutang Hadi per tahun adalah ....
- a. Rp 52.500.000,00
  - b. Rp 56.000.000,00
  - c. Rp 68.250.000,00
  - d. Rp 71.250.000,00
  - e. Rp 85.000.000,00
33. Surat berharga di pasar modal yang menunjukkan penyertaan modal dalam suatu perusahaan disebut ....
- a. obligasi
  - b. reksadana
  - c. saham
  - d. deposito
  - e. *commercial paper*
34. Below these are the subject and supported in capital market:
1. message's vice
  2. stock exchange company
  3. custodian
  4. mini stock exchange
- The true subject on stock exchange market are....
- a. 1, 2, and 3
  - b. 2, 3, and 4
  - c. 2 and 4
  - d. 3 and 4
  - e. 3 and 5
35. Mr. Yurigama wisatawan Jepang yang berkunjung ke Indonesia dan menukarkan uangnya di bank setempat sejumlah Yen 20.000,00. Jika kurs beli Yen 1,00 = Rp 80,00 dan kurs jual Yen 1,00 = Rp. 90,00, maka yang diterima Mr. Yurigama sebesar ....
- a. Rp 160.000,00
  - b. Rp 180.000,00
  - c. Rp 1.600.000,00
  - d. Rp 1.800.000,00
  - e. Rp 16.000.000,00
36. Akuntansi adalah seni dari pencatatan, penggolongan, dan peringkasan transaksi atau kejadian yang bersifat keuangan dengan cara yang tepat (berdaya guna) dan



dalam bentuk satuan uang, serta penafsiran hasil proses tersebut. Pengertian akuntansi tersebut adalah menurut lembaga ....

- a. ACIPA
  - b. AICPA
  - c. APCIA
  - d. AAA
  - e. APCA
37. Based on the right economics information, so the management can arrange a right plan too, weather is the short terms, middle, or even the long terms. This statement is suitable with the accountancy's useful in....
- a. planning
  - b. controlling
  - c. responsibility
  - d. organization
  - e. reporting
38. Informasi akuntansi harus dapat memenuhi kebutuhan para penggunanya dalam rangka mengambil keputusan ekonomi. Hal ini sesuai dengan syarat laporan keuangan ....
- a. relevan
  - b. netral
  - c. daya banding
  - d. dapat dimengerti
  - e. tepat waktu
39. The financial report is used as a basic to count the sum of output tax's company. This means is the report is useful for....
- a. the management
  - b. the owner
  - c. the investor
  - d. the government
  - e. the employee
40. Bidang akuntansi yang khusus berhubungan dengan penetapan prosedur akuntansi dan peralatannya dalam suatu perusahaan disebut bidang akuntansi ....
- a. *social accounting*
  - b. *cost accounting*
  - c. *accounting system*
  - d. *auditing investigation*
  - e. *tax accounting*
41. The purpose of ethical code on chartered accountant profession is to give guarantee on....
- a. the quality and honesty on financial report
  - b. making the company's profit increasing
  - c. making the investors interesting to invests
  - d. the businessmen, so the company's continuity is guaranteed
  - e. the creditors, in returning the credits

42. Bought office's equipments from CV Makmur Rp 4.500.00,00, payed cash Rp 2.000.000,00 and the rest will be payed monthly.  
The transactions above, noted in general journal on account....
- office equipments (D) Rp4.500.000,00, cash (K) Rp2.000.000,00, and account payable(K) Rp2.500.000,00
  - office equipment (D) Rp4.500.000,00, cash (K) Rp2.000.000,00, and account payable (D) Rp2.500.000,00
  - office equipment (D) Rp2.000.000,00, cash (K) Rp2.000.000,00, and account payable (K) Rp2.500.000,00
  - office equipment (D) Rp4.500.000,00, cash (K) Rp2.500.000,00, and account payable (K) Rp2.000.000,00
  - office equipment (D) Rp4.500.000,00, capital (K) Rp4.500.000,00
43. Berikut ini merupakan bukti transaksi yang dibuat oleh Bengkel ” Mandiri”.

Kwitansi

No : 018/kw	
Telah diterima dari : Bapak Jafar Umar	
Jumlah uang	: Lima ratus ribu rupiah
Untuk pembayaran	: Service Kendaraan
<b>Rp.500.000,00</b>	Surabaya, 15 Desember 2008
	Mandiri

Bukti transaksi di atas, dicatat dalam jurnal umum oleh bengkel Mandiri....

- |                 |              |              |
|-----------------|--------------|--------------|
| a. Kas          | Rp500.000,00 | -            |
| Pendapatan jasa | -            | Rp500.000,00 |
| b. Piutang      | Rp500.000,00 | -            |
| Kas             | -            | Rp500.000,00 |
| c. Kas          | R500.000,00  | -            |
| Utang usaha     | -            | Rp500.000,00 |
| d. Kas          | Rp500.000,00 | -            |
| Piutang         | -            | Rp500.000,00 |
| e. Piutang      | Rp500.000,00 | -            |
| Pendapatan jasa | -            | Rp500.000,00 |

44. Sebagai jurnal umum pada Biro Jasa Langgeng pada bulan Oktober 2008 adalah sebagai berikut:

Tanggal	Keterangan	Ref.	Debit	Kredit
5-10-2008	Kas		12.000	-
	Pendapatan jasa		-	12.000
10-10-2008	Piutang usaha		5.000	-
	Kas		-	5000
17-10-2008	Kas		15.000	-
	Utang bank		-	15.000

Jika diketahui saldo kas pada awal bulan Oktober 2008 sebesar Rp3.000.000,00 maka posting ke buku besar yang benar adalah ....

- a. Kas (dalam ribuan rupiah)

Tanggal	Keterangan	Ref.	Debit	Kredit	Saldo	
					Debit	Kredit
01/10/08	Saldo		3.000	-	3.000	-
05/10/08	-		12.000	-	15.000	-
10/10/08	-		-	5.000	10.000	-
17/10/08	-		15.000	-	25.000	-

- b. Kas (dalam ribuan rupiah)

Tanggal	Keterangan	Ref.	Debit	Kredit	Saldo	
					Debit	Kredit
01/10/08	Saldo		-	-	3.000	-
05/10/08	-		12.000	-	15.000	-
10/10/08	-		-	5.000	10.000	-
17/10/08	-		15.000	-	25.000	-

- c. Kas (dalam ribuan rupiah)

Tanggal	Keterangan	Ref.	Debit	Kredit	Saldo	
					Debit	Kredit
01/10/08	Saldo		-	-	3.000	-
05/10/08	-		12.000	-	9.000	-
10/10/08	-		-	5.000	8.000	-
17/10/08	-		15.000	-	13.500	-

- d. Kas (dalam ribuan rupiah)

Tanggal	Keterangan	Ref.	Debit	Kredit	Saldo	
					Debit	Kredit
01/10/08	Saldo		3.000	-	3.000	-
05/10/08	-		12.000	-	15.000	-
10/10/08	-		-	5.000	20.000	-
17/10/08	-		15.000	-	35.000	-

e. Kas (dalam ribuan rupiah)

Tanggal	Keterangan	Ref.	Debit	Kredit	Saldo	
					Debit	Kredit
01/10/08	Saldo		3.000	-	3.000	-
05/10/08	-		12.000	-	15.000	-
10/10/08	-		-	5.000	-	9.000
17/10/08	-		15.000	-	-	24.000

45. Sebagian neraca saldo salon "Yuen" per 31 Desember 2008 sebagai berikut:

No	Nama akun	Debit	Kredit
104	Perlengkapan salon	Rp.4.800.000	-
602	Beban Asuransi	Rp.3.600.000	-

Data penyesuaian per 31 Desember 2008 sebagai berikut.

- Perlengkapan salon masih tersisa Rp. 1.800.000,00
- Asuransi dibayar pada tanggal 3 September 2008 untuk satu tahun

Dari data di atas, jurnal penyesuaian yang benar adalah....

a. Beban asuransi	Rp. 2.400.000,00	-
Asuransi dibayar di muka	-	Rp. 2.400.000,00
b. Beban perlengkapan	Rp. 3.000.000,00	-
Perlengkapan	-	Rp. 3.000.000,00
c. Beban asuransi	Rp. 1.200.000,00	-
Asuransi dibayar di muka	-	Rp. 1.200.000,00
d. Perlengkapan	Rp. 3.000.000,00	-
Beban perlengkapan	-	Rp.3.000.000,00
e. Asuransi dibayar di muka	Rp. 1.200.000,00	-
Beban asuransi	-	Rp.1.200.000,00

46. "Roni Kartawijaya" accountant's office has a data below:

Final capital	Rp. 15.000.000,00
Service revenue	Rp. 5.000.000,00
Capital	Rp. 10.000.000,00
Profit after tax	Rp. 6.000.000,00
Rent expenses	Rp. 1.000.000,00
Interest expenses	Rp. 500.000,00

From the data above the personal withdrawal is .....

- a. Rp.16.000.000,00
- b. Rp. 5.000.000,00
- c. Rp. 4.000.000,00
- d. Rp. 1.000.000,00
- e. Rp. 500.000,00

47. Berikut sebagian kertas kerja Salon “Ranti “ Per 31 Desember 2007

No	Keterangan	Neraca saldo		AJP		NSD		Laba/Rugi		Neraca	
		D	K	D	K	D	K	D	K	D	K
1	Kas	400				400				400	
2	Piutang	350			150		200			200	
3	Perlengkapan	500			100	400				400	
4	Utang		700				700				700
5	Modal		1000				1000		1000		
6	Pendapatan		2000				2000				2000
7	Beban listrik	600				600		600			

Penyelesaian kertas kerja yang benar pada nomor ....

- a. 1, 2, 3, dan 6
- b. 1, 3, 5, dan 7
- c. 1, 3, 4, dan 7
- d. 2, 4, 5, dan 6
- e. 3, 4, 5, dan 7

48. “Express” transportation services company has financial data below:

- 1) Office equipment Rp 500.000,00
- 2) Office equipment expense Rp. 200.000,00
- 3) Rent expense Rp. 1.500.000,00
- 4) Rent prepaid Rp. 750.000,00
- 5) Service expense Rp.12.000.000,00
- 6) Comission expense Rp. 3.000,000,00
- 7) Interest expense Rp. 250.000,00
- 8) Personal withdrawal Rp 600.000,00
- 9) Wages expense Rp. 450,000,00
- 10) Wages payable Rp. 350.000,00

Based on the data above, Express transportation company has a profit before tax....

- a. Rp 12.600 000
- b. Rp 10.350.000
- c. Rp.9.850.000
- d. Rp.9.600.000
- e. Rp. 9.400.000

49. Berikut adalah data per 31 Desember 2008, perusahaan jasa catering "Bundo":

1) Modal awal	Rp3.500.000,00
2) Pendapatan	Rp12.350.000,00
3) Pengambilan pribadi	Rp1.500.000,00
4) Beban-beban	Rp4.750.000,00

Jumlah modal akhir dari perusahaan jasa catering "Bundo" adalah....

- Rp6.100.000,00
- Rp9.600.000,00
- Rp11.100.000,00
- Rp14.350.000,00
- Rp16.000.000,00

50. A part of sum amount ladger of "Cemerlang" workshop are below:

1) Equipment	Rp. 250.000,00
2) Account payable	Rp. 350.000,00
3) Payable letters	Rp . 450.000,00
4) Wages espense	Rp. 800.000,00
5) Interest espense	Rp. 700.000,00
6) Service espense	Rp.1.500.000,00

Closing journal from the accounts above is .....

a. profit / loss (D)	Rp. 450.000,00	-
service espense (D)	Rp.1.500.000,00	-
interest espense(K)	-	Rp.700.000,00
wage espense ( K )	-	Rp.800.000,00
b. service espense (D)	Rp.1.500.000,00	-
profit / loss (K)	-	Rp.1.500.000,00
c. account receivable (D)	Rp.350.000,00	-
payable letters (D)	Rp.450.000,00	-
profit / loss (K)	-	Rp.800.000,00
d. interest espense(D)	Rp.700.000,00	-
wage espense ( D)	Rp.800.000,00	-
profit / loss (K)	-	Rp.1.500.000,00
e. equipment (D)	Rp 250.000,00	-
profit / loss (K)	-	Rp. 250.000,00

